

00018 《计算机应用基础》真题与答案解析（2017.04）

一、单项选择题

1、下列属于计算机输入设备的是

- A. 3D 打印机
- B. 显示器
- C. 音响
- D. 扫描仪

【试题答案】 D

2、在微型计算机的主要性能指标中，字长是指

- A. CPU 一次能够处理的二进制数据位数
- B. 16 位二进制长度
- C. 主板的总线数
- D. 存储器的速度

【试题答案】 A

3、某单位的人事管理软件属于

- A. 应用软件
- B. 系统软件
- C. 工具软件
- D. 检索软件

【试题答案】 A

4、计算机能直接识别和执行的语言是

- A. 机器语言
- B. 高级语言
- C. 汇编语言
- D. 脚本语言

【试题答案】 A

5、汉字在计算机内部的表示，一般采用

- A. 国标码
- B. 机内码
- C. 字形码
- D. 区位码

【试题答案】 B

6、以下可用来连接移动硬盘的接口是

- A. LPT
- B. USB
- C. VGA
- D. PS/2

【试题答案】 B

7、将十进制数 57 转换为二进制数是

- A. 111011
- B. 111001
- C. 101111
- D. 110011

【试题答案】 B

8、在 Windows7 中，文件夹名称可以包含字符

- A. *
- B. \
- C. /
- D. --

【试题答案】 D

9、在 Windows7 中，显示 3D 桌面效果的快捷键是

- A. Windows+D 键
- B. Windows+P 键
- C. Windows+Tab 键
- D. Windows+Alt 键

【试题答案】 C

10、在 Windows7 开始菜单的“关闭选项”按钮组中有多个选项，其中不包括

- A. 切换用户
- B. 省电
- C. 注销
- D. 锁定

【试题答案】 B

11、在 Windows7 的设置桌面小工具中，提供的应用程序包括

- A. 资源管理器
- B. 幻灯片动画
- C. 网络
- D. 时钟

【试题答案】 D

12、在 Word2010 的编辑状态下，选中需要复制的文本，按下鼠标左键拖动被选中文本到目标位置，然后

- A. 释放左键即可复制文本
- B. 按住 Shift 键，并释放左键即可实现复制文本
- C. 按住 Ctrl 键，并释放左键即可实现复制文本
- D. 按住 Alt 键，并释放左键即可实现复制文本

【试题答案】 C

13、在 Word2010 中，“显示/隐藏编辑标记”按钮的功能是

- A. 删除隐藏的编辑标记
- B. 修改隐藏的编辑标记
- C. 插入隐藏的编辑标记
- D. 查看隐藏的编辑标记

【试题答案】 D

14、在 Word2010 “快速访问工具栏”上有多个按钮，其按钮的功能是

- A. 恢复上次操作
- B. 返回上一级菜单
- C. 进入下一级菜单
- D. 撤销上次操作

【试题答案】 A

15、在 Word2010 中，插入题注应使用

- A. “开始”功能区
- B. “插入”功能区
- C. “引用”功能区
- D. “视图”功能区

【试题答案】 C

16、若用户以不同文件名保存一个正在编辑的 Word 文档时，可使用“文件”中的

- A. “保存”命令
- B. “另存为”命令
- C. “关闭”命令
- D. “新建”命令

【试题答案】 B

17、下列有关 Word2010 页眉与页脚的叙述中，正确的是

- A. 位于页面底部页边距之外的区域称为页眉
- B. 对于一篇 Word 文档，只能设置相同的页眉
- C. 在页眉与页脚中，不仅可以插入文字，还可以插入图片
- D. 通过插入分页符，可以为一篇文档的不同部分设置不同的页眉与页脚

【试题答案】 C

18、下列有关 Excel2010 排序的叙述中，错误的是

- A. 可以按指定的关键字升序排序
- B. 可以指定大于 4 个关键字排序
- C. 最多可以指定 2 个关键字排序
- D. 可以按指定的关键字降序排序

【试题答案】 C

19、在 Excel2010 的输入栏中，输入公式的一般形式是

- A. =表达式
- B. : 表达式
- C. "表达式
- D. 表达式

【试题答案】 A

20、在 Excel 的 Sheet1 工作表某单元格中，引用 Sheet2 的工作表 A4 单元格的表达式为

- A. Sheet2\$A4
- B. Sheet2&A4
- C. Sheet2%A4
- D. Sheet2!A4

【试题答案】 D

21、在 Excel2010 中，计算字符串长度的函数是

- A. LEN
- B. MAX
- C. MIN
- D. SUM

【试题答案】A

22、在 Excel2010 中，能正确计算 E3 到 E6 单元格数据之和的公式是

- A. =SUM (E3, E6)
- B. =SUM (E3;E6)
- C. =SUM (E3E6)
- D. =SUM (E3:E6)

【试题答案】D

23、在 Excel2010 的新增迷你图中，包含有

- A. 条形图
- B. XY 散点图
- C. 盈亏图
- D. 饼图

【试题答案】C

24、在 PowerPoint2010 中，若要从第 2 张幻灯片跳转到第 8 张幻灯片，可使用“幻灯片放映”功能区的

- A. “动作设置”按钮
- B. “添加动画”按钮
- C. “幻灯片切换”按钮
- D. “自定义幻灯片放映”按钮

【试题答案】D

25、在 PowerPoint2010 所提供的母版中，包含

- A. 普通视图母版
- B. 讲义母版
- C. 大纲母版
- D. 幻灯片浏览母版

【试题答案】B

26、在 Access2010 中，数据库和表的关系是

- A. 一个数据库可以包含多个表

- B. 一个表只能包含一个数据库
- C. 一个表可以包含多个数据库
- D. 一个数据库只能包含一个表

【试题答案】A

27、TCP/IP 有四个层次，不包括

- A. 应用层
- B. 传输层
- C. 物理层
- D. 网络接口层

【试题答案】C

28、下列合法 IP 地址是

- A. 256.196.112.158
- B. 202.196.112.50
- C. 202:120:96:123
- D. 202;196;16;8

【试题答案】B

29、下列有关计算机病毒的叙述中，正确的是

- A. 严禁在计算机上玩游戏是预防计算机病毒侵入的唯一措施
- B. 计算机病毒是一种人为编制的特殊程序，会使计算机系统不能正常运转
- C. 只要不上网，计算机就不会感染病毒
- D. 计算机病毒只破坏内存中的程序和数据

【试题答案】B

30、互联网的传输介质分为有线介质和无线介质，下列属于无线传输介质的是

- A. 双绞线
- B. 同轴电缆
- C. 电磁波
- D. 光纤

【试题答案】C

二、填空题

1、高级语言的翻译过程有_____和解释两种形式。

【试题答案】编译

2、计算机系统结构由运算器、控制器、_____、输入设备、输出设备五大部分组成。

【试题答案】存储器

3、1KB 内存最多能存储_____个 ASCII 码字符。

【试题答案】1024

4、微型计算机的数据通信接口分为两种：串行接口和_____接口。

【试题答案】并行

5、已知英文字母 k 的 ASCII 码值为十进制数 107，英文字母 q 的 ASCII 码值为十进制数_____。

【试题答案】113

6、操作系统是一种管理计算机资源、控制_____运行、提供人机交互界面和为其他软件提供支持的系统软件。

【试题答案】程序

7、在 Windows7 的磁盘管理窗口中，对硬盘创建分区时，第一个驱动器盘符是_____。

【试题答案】C

8、在 Word2010 中，对文档进行修订工作的功能区是_____。

【试题答案】“审阅”功能区

9、在 Word2010 中，对多处文字复制已设置的格式，可使用_____功能。

【试题答案】格式刷

10、在 Excel2010 工作表中，对数据进行_____时，其数据应是已排序的数据。

【试题答案】分类汇总

11、在 Excel2010 中，已知 E8 单元格的公式为“=B8*C8”，将此单元格公式复制到 G6 单元格后，则 G6 中的公式应为_____。

【试题答案】=D6*E6

12、PowerPoint2010 演示文稿的扩展名为_____。

【试题答案】.pptx

13、SELECT 语句中的_____子句用来设置查询条件。

【试题答案】 WHERE

14、电子邮件地址由三部分组成，第一部分是_____，第二部分是专用的分隔符“@”，第三部分是邮件服务器名。

【试题答案】 用户名

15、超文本标记语言的英文缩写是_____。

【试题答案】 HTML (或 html)

三、问答题

1、微型计算机的存储体系分为内部存储器和外部存储器，写 2 种内部存储器和 3 种外部存储器的名称。

【试题答案】

内部存储器有：

- (1) 高速缓冲存储器。
- (2) 主存储器。

外部存储器有：

- (1) 硬盘。
- (2) 光盘。
- (3) 移动硬盘。

2、计算机操作系统的主要功能有多种，写出其中的 3 种。

【试题答案】

- (1) 进程管理。
- (2) 内存管理。
- (3) 文件系统管理。
- (4) 输入输出管理。
- (5) 网络通信管理。
- (6) 安全机制管理。
- (7) 驱动程序管理。

(写出任意 3 种即可)

3、写出 Word2010 的 5 种设置段落格式的名称。

【试题答案】

(1) 项目符号。(2) 编号。(3) 多级列表。(4) 减少缩进量。(5) 增加缩进量。(6) 中文版式。(7) 排序。(8) 文本左对齐。(9) 居中。(10) 文本右对齐。(11) 两端对齐。(12) 行和段落间距。(13) 底纹。

(写出任意 5 种即可)

4、在 Excel2010 的“设置单元格格式”对话框中有 6 个选项卡，写出其中的 3 个选项卡名称。

【试题答案】 (1) “数字”选项卡。

(2) “对齐”选项卡。

(3) “字体”选项卡。

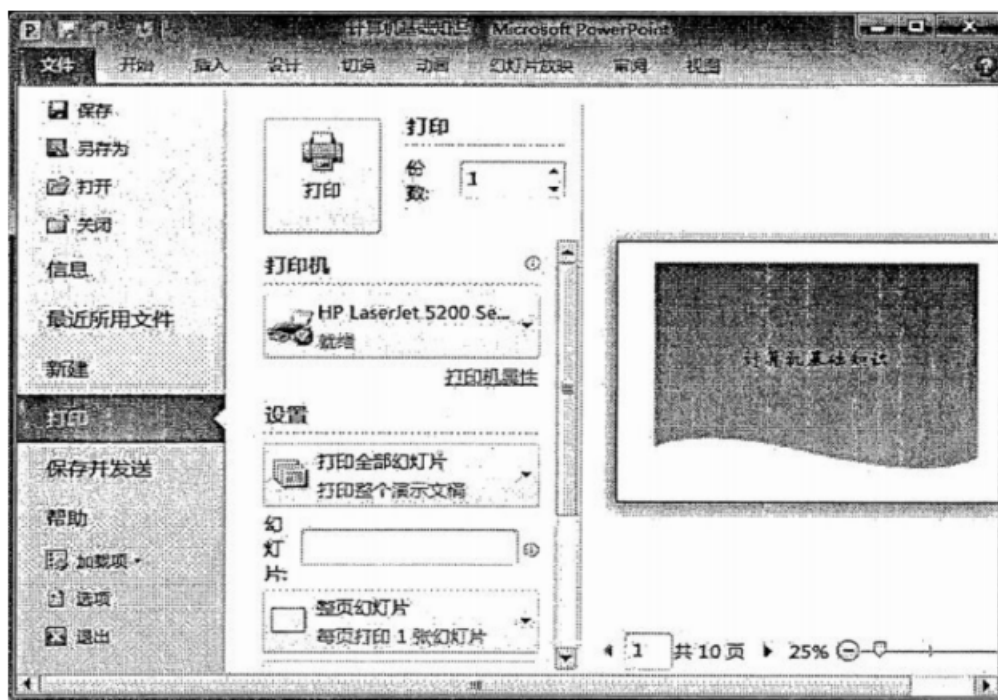
(4) “边框”选项卡。

(5) “填充”选项卡。

(6) “保护”选项卡。

(写出任意 3 种即可)

5、在 PowerPoint2010 中，若要将幻灯片以每页 4 张水平放置的形式打印，参看如题 50 图所示的“打印”对话框中，写出具体操作。



【试题答案】 (1) 打开“文件”功能区，选择“打印”命令，单击打开“打印”窗口。

(2) 在“设置”组中，单击第 2 个选项，从列表中选择“4 张水平放置的幻灯片”。

(3) 在“打印”组中，单击“打印”按钮。

6、写出实体与实体之间 3 种联系的名词。

【试题答案】

(1) 一对一。

(2) 一对多。

(3) 多对多。

7、计算机网络拓扑结构有多种，写出其中的 3 种名称。

【试题答案】

- (1) 总线结构。
- (2) 环形结构。
- (3) 星形结构。
- (4) 树形结构。
- (5) 网状结构。

(写出任意 3 种即可)

四、操作题

1、在工作中，需给大量客户发送参加会议的通知，现有“会议通知.docx”文档和“客户信息.xlsx”数据表源文件，数据表源文件中含有客户姓名、地址、邮编等信息，写出实现邮件合并的操作步骤。

【试题答案】

- (1) 打开主文档文件“会议通知.docx”，从“邮件”功能区中选择“开始邮件合并”，选择“普通 Word 文档”。
- (2) 点击“邮件”功能区中的“选择收件人”按钮，选择“使用现有列表”，选择“客户信息.xlsx”文件，单击打开，然后会再弹出一个“选择表格”的窗口，要求指定使用哪个工作表，选择工作表“客户信息”，直接单击确定，完成数据源设置。
- (3) 将光标定位到要插入数据的地方，单击邮件合并工具栏上的“插入合并域”按钮，在弹出的窗口中选择“客户姓名”，然后单击“插入”按钮。
- (4) 单击“关闭”按钮，重复上述 (3) 中的操作数次，依次插入“地址”、“邮编”等元素。
- (5) 单击邮件合并工具栏上“预览结果”按钮，即可看到邮件合并之后的数据，工具栏上还有一些按钮和输入框可以查看前一条、下一条和指定的记录。

2、依据题 54 图所示的工作表内容，按要求完成下列操作。

- (1) 在 D16 单元格中，写出计算“英语”科目最高分的公式。
- (2) 在 E17 单元格中，写出计算“高数”科目平均分的公式。
- (3) 写出按照平均分对表格数据进行降序排列的操作步骤。

	A	B	C	D	E	F	G	H
1	学生公共课成绩表							
2	学号	姓名	计算机	英语	高数	两课	平均分	总评成绩
3	13A100	王丽	90	89	92	98	92.3	良好
4	13A101	张军	89	92	85	90	89.0	良好
5	13A102	陈红	93	78	87	92	87.5	良好
6	13A103	赵磊	97	82	85	91	88.8	良好
7	13A104	周斌	78	67	72	87	76.0	合格
8	13A105	陈晨	67	42	69	79	64.3	合格
9	13A106	李颖	45	52	62	67	56.5	差
10	13A107	王娜	82	77	81	73	78.3	合格
11	13A108	孙静	79	82	83	86	82.5	合格
12	13A109	孙睿	62	73	78	84	74.3	合格
13	13A110	陈怡	57	49	63	70	59.8	差
14	13A111	赵鹏	79	81	76	86	80.5	合格
15	13A112	吴军	66	69	70	80	71.3	合格
16	各科最高分							
17	各科平均分							
18								
19								

题 54 图

【试题答案】

(1) =MAX (D3: D15)

(2) =AVERAGE (E3: E15)

(3) 选定要排序的数据区域，即选择工作表中的 A2: H15 区域。然后打开功能区栏的“数据”功能区，选择“排序和筛选”功能组中的“排序”按钮，弹出“排序”对话框。在“排序”对话框中，“列”设置为“平均分”，“排序依据”设置为“数值”，“次序”设置为“降序”，单击“确定”按钮。

00018 《计算机应用基础》真题与答案解析 (2017.10)

一、单项选择题

1、世界上第一台具有程序存储功能的计算机是

- A. ENIAC
- B. EDSAC
- C. EDVAC
- D. UNIVAC

【试题答案】 B

2、下列有关 CPU 叙述中,正确的是

- A. CPU 能直接读取硬盘上的数据
- B. CPU 能直接存取内存存储器数据
- C. CPU 由 RAM、运算器和控制器组成
- D. CPU 主要用来存储程序和数据

【试题答案】 B

3、下列选项中,均属于计算机输出设备的是

- A. 喷墨打印机、显示器和键盘
- B. 激光打印机、键盘和鼠标
- C. 键盘、鼠标和扫描仪
- D. 打印机、绘图仪和显示器

【试题答案】 D

4、下列存储器中,属于易失性存储器的是

- A. Cache
- B. ROM
- C. U 盘
- D. 光盘

【试题答案】 A

5、下列有关计算机语言的叙述中,正确的是

- A. 计算机能直接识别并执行用高级程序语言编写的源程序
- B. 机器语言是计算机直接识别和执行的语言
- C. 汇编语言是面向用户的自然语言
- D. 高级语言源程序不经过编译、连接即可执行

【试题答案】 B

6、用 8 位二进制数,能表示的最大十进制数是

- A. 256
- B. 255
- C. 128
- D. 127

【试题答案】 B

7、二进制数 101110 转换成十六进制数是

- A. 2C
- B. 2D
- C. 2E
- D. 2F

【试题答案】 C

8、在 Windows7 中,任务栏

- A. 无法控制是否被隐藏
- B. 必须被隐藏
- C. 不能被隐藏
- D. 可以被隐藏

【试题答案】 D

9、在 Windows7 桌面上,移动图标的位置

- A. 只能在控制面板中设置完成
- B. 只能由 Windows 系统完成
- C. 既可以由 Windows 系统完成,又可以由用户完成
- D. 既可以在控制面板中设置完成,又可以由用户完成

【试题答案】 C

10、在 Windows7 中,“资源管理器”窗口已经选定多个文件,如果要取消其中几个文件的选定,应进行的操作是

- A. 按住“Shift”键,再单击各个要取消选定的文件
- B. 按住“Ctrl”键,再单击各个要取消选定的文件
- C. 直接单击各个要取消选定的文件
- D. 用鼠标右键单击各个要取消选定的文件

【试题答案】 B

11、在 Windows7 用户账户管理中,标准账户可以

- A. 在本地计算机安装新软件和硬件
- B. 使用本地计算机中的软件
- C. 更改计算机安全设置
- D. 创建高级用户

【试题答案】 B

12、在 Word2010 的快速访问工具栏中,“↶”按钮的功能是

- A. 撤销操作
- B. 恢复操作
- C. 删除一个字符
- D. 加粗

【试题答案】 A

13、利用 Word2010 的文档导航功能,不能快速查找的是

- A. 表格
- B. 公式
- C. 图形
- D. 页眉

【试题答案】 D

14、在 Word2010 中,需将当前文档保存到其他目录,正确的操作是

- A. 单击快速访问工具栏上的“保存”按钮
- B. 选择“文件”→“保存”命令
- C. 选择“文件”→“退出”命令
- D. 选择“文件”→“另存为”命令

【试题答案】 D

15、在 Word2010 “视图”功能区中,不能设置的是

- A. 标尺
- B. 导航窗格
- C. 显示比例
- D. 纸张大小

【试题答案】 D

16、在 Word2010 文档中进行格式复制时,单击“格式刷”可以实现一次设置

- A. 1 次使用
- B. 2 次使用
- C. 3 次使用
- D. 多次使用

【试题答案】 A

17、在 Word2010 中,邮件合并的两个基本文档是

- A. 标签和信函
- B. 信函和信封
- C. 主文档和数据源
- D. 空白文档和数据源

【试题答案】 C

18、在 Excel2010 中,一个工作簿最多可包含工作表数是

- A. 3 个
- B. 16 个
- C. 255 个
- D. 256 个

【试题答案】 C

19、在 Excel2010 工作表 D6 单元格中,有公式:“=A3+\$E\$11”,其中\$E\$11 的引用为

- A. 相对引用
- B. 绝对引用
- C. 混合引用
- D. 二维地址引用

【试题答案】 B

20、在 Excel2010 公式中,若在当前“奖金”工作表中引用“工资”工作表的 A1 到 G100 单元格区域,正确的是

- A. 工资#A1:G100
- B. 工资\$A1,G100
- C. 工资!A1: G100
- D. 工资!A1,G100

【试题答案】 C

21、在 Excel2010 中,若单元格出现“VALUE!”信息时,表示

- A. 单元格公式引用不再有效
- B. 单元格中的数值太大
- C. 计算结果太长,超过单元格宽度
- D. 公式中使用了错误的数据类型

【试题答案】 D

22、在 Excel2010 图表中,要对多个考察对象进行多个数据对比,应选择的图表类型是

- A. 柱形图
- B. 折线图
- C. 饼图
- D. XY 散点图

【试题答案】 A

23、在 Excel2010 中,若 E2 单元格数值为 59,在 F3 单元格输入公式 IF (E2>=90, “优”,IF (E2>=75, “良”, IF (E2>=60, “合格”, “差”))) , 其 F3 单元格的值为

- A. 优
- B. 良
- C. 合格
- D. 差

【试题答案】 D

24、在 PowerPoint2010 中,演示文稿与幻灯片的关系是

- A. 同属于一个对象
- B. 相互独立并没有联系
- C. 演示文稿由若干个幻灯片组成
- D. 幻灯片由若干个演示文稿组成

【试题答案】 C

25、在 PowerPoint2010 中,“设计”功能区主要用来设计幻灯片的样式,其中不能设置

- A. 主题
- B. 背景
- C. 页面设置
- D. 动画效果

【试题答案】 D

26、在数据库设计中,将 E-R 图转换成关系数据模型时,每个实体集应转换成

- A. 一条记录
- B. 一个字段
- C. 一个二维表
- D. 一个三维表

【试题答案】 C

27、计算机网络的主要功能是

- A. 资源共享
- B. 文献编排
- C. 数据处理
- D. 信息加工

【试题答案】 A

28、在 Internet 中,每台连网的设备都必须有唯一的 IP 地址,正确的 IP 地址是

- A. 202.112.111.1
- B. 202,197,1122
- C. 202:202:1:1
- D. 202.257.14.13

【试题答案】 A

29、在 Internet 中,用户申请的电子邮箱是建立在

- A. 用户的计算机上
- B. 发件人的计算机上
- C. 邮件服务器上
- D. 收件人的计算机上

【试题答案】 C

30、若要将一台计算机与局域网连接,则该计算机应配备的网络硬件是

- A. 网卡
- B. 交换机
- C. 集线器
- D. 路由器

【试题答案】 A

二、填空题

1、在微型计算机硬件系统中,专门用来读取和执行指令的部件称为_____。

【试题答案】中央处理器或者 CPU 或者中央处理单元

2、在微型计算机中,用来保存当前正在运行程序的存储器是_____。

【试题答案】主存储器或者主存或者内存或者 RAM (大小写字母不限)

3、一个 24×24 点阵的汉字字形码,所占用的字节数是_____。

【试题答案】72 或者七十二

4、在计算机系统软件中,其核心的软件是_____。

【试题答案】操作系统或者 OS

5、微型计算机的系统总线是计算机各部件间传递信息的公共通道,分为数据总线、控制总线和_____。

【试题答案】地址总线或者 AB 或者 AddressBus

6、Windows7 桌面由桌面图标、开始按钮、桌面背景和_____组成。

【试题答案】任务栏

7、在 Windows7 磁盘管理中,优化磁盘包括:整理磁盘碎片和磁盘_____。

【试题答案】清理

8、在 Word2010 文档编辑中,要将选定区域的内容放到剪贴板上,可单击“开始”功能区的“剪切”按钮或“_____”按钮。

【试题答案】复制

9、在 Word2010 文档中,若要进行拼写检查、批注、修订等操作,应使用的功能区_____。

【试题答案】审阅或者“审阅”

10、在 Excel2010 工作表中,相对引用第 2 行第 2 列单元格到第 6 行第 6 列单元格的区域,应为_____。

【试题答案】B2: F6 (大小写字母不限)

11、在 Excel2010 工作表 E2 单元格中,输入公式:=LEN (“计算机-基础”),其结果_____。

【试题答案】6

12、在 PowerPoint2010 中有 3 种母版:幻灯片母版、讲义母版和_____。

【试题答案】备注母版或者备注

13、在 Access2010 中创建数据表时,若要定义一个“简历”字段,其数据类型应_____。

【试题答案】备注或者备注字段或者文本或者文本字段

14、一般网络软件包括:_____、通信软件和网络操作系统

【试题答案】网络协议

15、TCP/P 是 Internet 协议簇,其 TCP 表示传输控制协议,IP 表示_____。

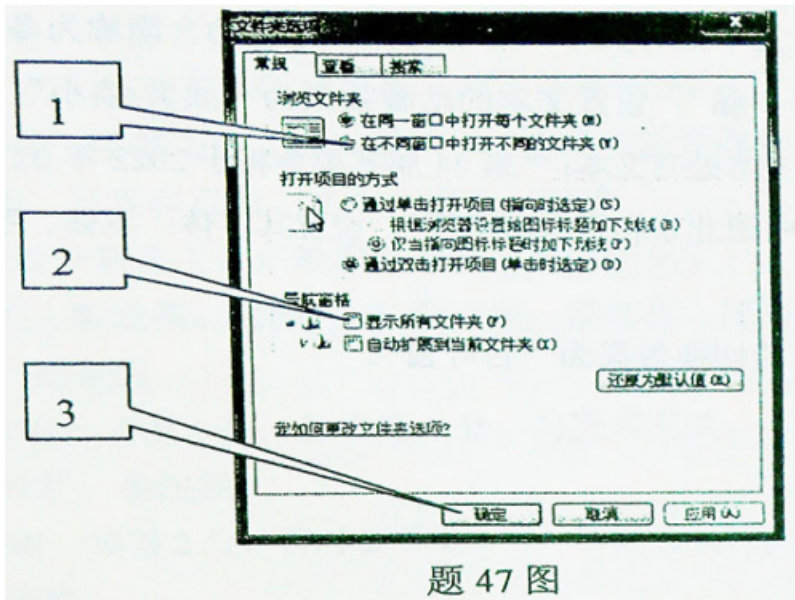
【试题答案】网际协议

三、问答题

1、计算机的发展趋势有多种,写出其中 3 种

【试题答案】网络化、智能化、巨型化和微型化

2、在 Windows7 对话框窗口中有多个元素,写出如题 47 图标识号指向的元素名称



【试题答案】(1) 单选按钮 (2) 复选框或多选框 (3) 命令按钮

3、在 Word2010 “插入”功能区包含多个功能组,写出其中 5 个功能组名称

【试题答案】页、表格、插图、页眉和页脚、文本、符号、链接

4、在 Excel2010 中提供了多种图表类型,写出其中 5 种。

【试题答案】柱形图、条形图、折线图、饼图、XY 散点图、面积图、圆环图、雷达图、曲面图、气泡图、股价图

5、在 PowerPoint2010 中，“普通”视图由 3 个部分组成,写出其名称。

【试题答案】大纲栏、幻灯片栏、备注栏

6、在数据库应用中,写出关系数据库的 3 种运算关系。

【试题答案】选择、投影、连接

7、Internet 网站类型有多种,如电子政务网站,写出其他 3 种类型

【试题答案】搜索引擎网站、电子商务网站、社交网站、门户网站

四、操作题

1、根据题 53 图所示内容,按要求完成下列功能,描述其操作步骤。

- (1) 计算每人的月平均工资
- (2) “工资表”标题行设置,字体:宋体、字号:16 磅,合并居中
- (3) 对每条记录按照“月平均”字段值进行降序排列
- (4) 以“月工资降序”为文件名保存。



姓名	一月	二月	三月	四月	五月	六月	月平均
张力	5890	7900	6760	5800	8100	6780	
陈明	6712	6910	7100	8100	6900	7130	
李磊	5231	7200	6500	7800	6890	7860	
王悦	8900	8990	7600	6961	8050	8210	
陈晨	7620	8100	6900	5980	6540	7350	
田红	6980	6300	7500	7200	5980	6980	
孙睿	8430	7800	5210	6790	7190	6840	
周军	7100	5810	6800	7340	6360	7920	

【试题答案】

- (1) 定位在 H3 单元格,单击“fx”按钮,在“插入函数”对话框中选择求平均值函数“AVERAGE”,单击“确定”按钮,在“函数参数”对话框中选择单元格区域“B3:G3”,单击“确定”按钮,完成第一人的月平均计算。使用复制命令(或单元格引用)完成公式复制到其他的月平均工资的计算。(3分)
- (2) 选中第 A1:H1 区域,单击“对齐方式”功能组中“合并后居中”按钮(或打开“对齐方式”对话框,选择合并项,居中项);单击“字体”列表框,选择“宋体”单击“字号”列表框,选择“16”(或者打开“字体”对话框,设置字体为“宋体”,字号为 16)
- (3) 单击“数据”功能区,鼠标定位在月平均数据列中任意单元格,单击“排序和筛选”功能组中的“降序”按钮(或者单击“排序”按钮,在打开的排序对话框中设置关键字:月平均、排序依据:数值、次序:降序)。
- (4) 选择“文件”→“另存为”命令,在“另存为”对话框中输入:“月工资降序”,单击“保存”按钮。

2、在已打开的演示文稿中,按题目要求描述下列操作步骤

- (1) 在第 1 张幻灯片标题处插入艺术字:冬季奥林匹克运动会;

(2) 在第 2 张幻灯片文本处有文本“冬季奥林匹克运动会简称为冬季奥运会、冬奥会。每四年举办一届”;设置文本的动画效果为“放大/缩小”;

(3) 在第 3 张幻灯片文本处有文本:“第 24 届冬奥会将于 2022 年 02 月 04 日至 2022 年 02 月 20 日在中国北京和张家口举行”;设置其字体:黑体、字号:24 磅、字形:加粗;

(4) 设置所有幻灯片的切换效果为“百叶窗”;

【试题答案】

(1) 定位在第一张幻灯片,选择“插入”→“文本”功能组中“艺术字”按钮,输入艺术字:冬季奥林匹克运动会,按“回车”键;(2分)

(2) 定位在第 2 张幻灯片,选中“冬季奥林匹克运动会简称为冬季奥运会、冬奥会。每四年举办一届”;单击“动画”功能区,选择“动画”功能组中“放大缩小”动画效果;(3分)

(3) 定位在第 3 张幻灯片,选中“第 24 届冬奥会将于 2022 年 02 月 04 日至 2022 年 02 月 20 日在中国北京和张家口举行”,单击“字体”列表框,选择“黑体”,单击“字号”列表框,选择“24”,单击“加粗”按钮。(2分)

(4) 选中 3 张幻灯片,单击“切换”功能区,选择“切换到此幻灯片”百叶窗”效果,单击“保存”按钮。(3分)

00018 《计算机应用基础》真题与答案解析 (2018.04)

一、单项选择题

1、第一代电子计算机采用的逻辑器件是

- A. 电子管
- B. 晶体管
- C. 二极管
- D. 集成电路

【试题答案】 A

2、下列属于非易失性存储器的是

- A. Cache
- B. Register
- C. ROM
- D. RAM

【试题答案】 C

3、1Byte 表示的二进制位数是

- A. 1
- B. 8
- C. 16
- D. 32

【试题答案】 B

4、十六进制数 D3.6 转换成二进制数是

- A. 11010011.011
- B. 11100011.110
- C. 11100011.110
- D. 11000011.011

【试题答案】 A

5、在微型计算机中,控制器的功能是

- A. 进行算术运算和逻辑运算
- B. 暂时保存运算器产生的中间结果
- C. 协调并控制计算机各功能部件实现程序执行
- D. 存储程序和数据

【试题答案】 C

6、下列有关 ASCII 码的叙述中,正确的是

- A. ASCII 码采用 16 位二进制编码表示
- B. ASCII 码不能表示控制字符
- C. 大写字母的 ASCII 码值比相应小写字母的 ASCII 码值大 32
- D. A~Z 的 ASCII 码值是连续的

【试题答案】 D

7、LCD 内部有很多液晶粒子,构成粒子每个面的颜色有 3 种,被称为三原色。这 3 种颜色是

- A. 红色、绿色和蓝色
- B. 绿色、红色和黄色
- C. 白色、蓝色和红色
- D. 蓝色、绿色和黄色

【试题答案】 A

8、Windows7 系统提供了 4 种桌面图标的排列方式,分别是按:名称、大小,以及

- A. 访问频率和最近访问日期排列
- B. 项目类型和访问频率排列
- C. 项目类型和修改日期排列
- D. 项目类型和创建日期排列

【试题答案】 C

9、下列有关 Windows7 磁盘管理的叙述中,正确的是

- A. 磁盘碎片整理程序可以将不连续的存储空间整理为连续的空间
- B. 磁盘分区可以使用的驱动器号为 A~Z 共 26 个英文字母
- C. 不能将本地计算机的 D 盘更改为新的盘符
- D. 磁盘分区一旦被删除,其空间无法再次被使用

【试题答案】 A

10、在 Windows7 默认配置下,可以将硬盘选中文件永久删除的操作是

- A. 按“Delete”键
- B. 按“Shift+Delete”组合键
- C. 单击鼠标右键,在快捷菜单中选择“删除”命令
- D. 单击当前资源管理器窗口的“文件”菜单,并选择“删除”命令

【试题答案】 B

11、以下有关 Windows7 用户账户管理的叙述中,正确的是

- A. 新建用户账户时,必须设置账户密码
- B. 可创建的账户类型有标准用户和管理员两种
- C. 已创建的用户账户类型不能被更改
- D. 标准用户可以安装新软件

【试题答案】 B

12、Word2010 文档的默认扩展名是

- A. .txt
- B. .dotx
- C. .docx
- D. .pdf

【试题答案】 C

13、在 Word2010 中,对选定文字设置格式后,双击“格式刷”可以将已设置的格式复制到

- A. 1 个目标区域
- B. 2 个目标区域
- C. 3 个目标区域
- D. 多个目标区域

【试题答案】 D

14、下列有关 Word2010 “撤销”操作的叙述中,正确的是

- A. 已经撤销的操作将无法再被恢复
- B. 用户可以按照从后到前的顺序撤销任意步操作
- C. 撤销操作对应的组合键是“Ctrl+Y”
- D. 用户不能有选择地撤销不连续的操作

【试题答案】 D

15、在 Word2010 视图中,能显示“页眉”的是

- A. 页面视图
- B. 草稿视图
- C. 大纲视图
- D. 阅读版式视图

【试题答案】 A

16、下列有关 Word2010 分隔符的叙述中,正确的是

- A. 对文档设置不同的页眉和页脚,应先插入分页符
- B. 插入分页符的操作可在“页面布局”功能区完成
- C. 在文档中插入的分节符无法被删除
- D. 在文档中插入分节符后,文档同时也必然会被分页

【试题答案】 B

17、在 Word2010 中,若需插入目录,应选择

- A. “插入”功能区
- B. “页面布局”功能区
- C. “引用”功能区
- D. “审阅”功能区

【试题答案】 C

18、在 Excel2010 中,若需在单元格中输入公式,应首先输入

- A. =
- B. !
- C. \$
- D. >

【试题答案】 A

19、在 Excel2010 中,用于显示相同间隔内数据预测趋势的图表类型是

- A. 柱形图
- B. 折线图
- C. 条形图
- D. 饼图

【试题答案】 B

20、在 Excel2010 中,“打印标题”功能按钮位于

- A. “开始”功能区
- B. “数据”功能区
- C. “视图”功能区
- D. “页面布局”功能区

【试题答案】 D

21、在 Excel2010 中,工作表的数据如题 21 图所示。其中在 D1 单元格输入的公式为“=A1+\$C\$1”,若将其公式复制到 D2 单元格,则 D2 单元格中显示的值为

	A	B	C	D
1	1	2	3	4
2	3	2	4	
3				

- A. 7
- B. 6
- C. 4
- D. 2

【试题答案】 B

22、在 Excel2010 中,应用“实心填充”条件格式时,用来代表单元格值大小的是

- A. 数据条的颜色深度
- B. 数据条的面积
- C. 数据条的长度
- D. 数据条的高度

【试题答案】 C

23、在 Excel2010 中,用于求一个数值在某一区域内排名的函数是

- A. IF
- B. RANK
- C. MAX
- D. VLOOKUP

【试题答案】 B

24、在 PowerPoint2010 中,用于实现超链接功能的“动作按钮”位于

- A. “插入” → “SmartArt”
- B. “插入” → “图片”
- C. “插入” → “剪贴画
- D. “插入” → “形状”

【试题答案】 D

25、在 PowerPoint2010 中提供了 4 种动画设置类型,正确的是

- A. 进入、强调、退出和动作路径
- B. 退出、进入、强调和减弱

C. 动作路径、进入、强调和自定义

D. 自定义、进入、退出和动作路径

【试题答案】A

26、在 Access2010 中,LIKE 运算符使用的通配符 “#” 用于匹配表达式中的

A. 零个或多个数字

B. 零个或多个字符

C. 任意单个字符

D. 任意一位数字

【试题答案】D

27、ARPANET 起源于 20 世纪

A. 90 年代

B. 80 年代

C. 70 年代

D. 60 年代

【试题答案】D

28、TCP/IP 协议的分层结构中,从下到上各层依次是

A. 网络接口层、网络层、传输层、应用层

B. 网络层、网络接口层、应用层、传输层

C. 应用层、传输层、网络接口层、网络层

D. 传输层、应用层、网络层、网络接口层

【试题答案】A

29、在 Internet 中,超文本传输协议的英文缩写是

A. TCP

B. FTP

C. SMTP

D. Http

【试题答案】D

30、下列有关计算机病毒的叙述中,正确的是

A. 计算机病毒是一种可对人体健康造成一定危害的病毒

B. 防范病毒最直接有效的方法是经常对磁盘进行格式化

C. 计算机病毒是一组计算机指令或程序代码

D. 安装了杀毒软件的计算机将不会再被计算机病毒所侵害

【试题答案】 C

二、填空题

1、二进制数 101011 转换成十进制数是_____。

【试题答案】 43

2、未来计算机的发展趋势主要是:网络化、_____、巨型化和微型化。

【试题答案】 智能化

3、在微型计算机中,数据通信的传输方式分为两类:串行传输和_____

【试题答案】 并行传输或者并行

4、在微型计算机中,CPU 一次能并行处理二进制位数的多少,称为_____。

【试题答案】 字长

5、小写字母“a”的 ASCII 值为 97,则大写字母“C”的 ASCII 码值为_____。

【试题答案】 67

6、在 Windows7 的资源管理器窗口中,实现对多个不连续文件的选定,应单击第一个文件,然后按住_____键,再依次单击需要选中的文件。

【试题答案】 CTRL (大小写字母不限)

7、在 Windows7 的“_____”对话框中,可以设置是否显示属性为“隐藏”的文件和文件夹。

【试题答案】 文件夹选项

8、在 Word2010 “开始”功能区的“字体”组中,“**B**”按钮的作用是使选定文字_____。

【试题答案】 加粗或者变为粗体

9、在 Word2010 中,要实现批量打印准考证,可使用_____功能。

【试题答案】 邮件合并

10、在 Excel2010 中,对工作表进行分类汇总前,应对分类字段进行_____操作。

【试题答案】 排序

11、在 Excel2010 中,某工作表的数据如题 41 图所示。当“体重 $\leq 50\text{kg}$ ”时,“建议”列对应单元格显示“偏瘦”;当“ $50\text{kg} < \text{体重} \leq 60\text{kg}$ ”时,显示“正常”;当“体重 $> 60\text{kg}$ ”时,显示“偏胖”。在 C2 单元格应输入公式_____。

	A	B	C
1	姓名	体重 (kg)	建议
2	张丽	45.3	
3	赵大勇	72.3	
4	李小燕	55	

题 41 图

【试题答案】=IF (B2 < =50,"偏瘦",IF (B2 < =60,"正常","偏胖"))

12、在 Powerpoint2010 中,用于比较两个演示文稿改动情况的“比较”按钮,所在功能区是_____。

【试题答案】审阅或者审阅功能区

13、数据库的三级模式结构包括:外模式、模式和_____。

【试题答案】内模式

14、通过射频识别技术、全球定位系统等信息传感设备,并按照一定协议,将各种物品与互联网连接起来,以实现对物品的识别、定位、跟踪、监控和管理的新型互联网应用被称为_____。

【试题答案】物联网

15、在 Internet 中,服务器提供信息处理的服务方式有:CS 模式和_____模式。

【试题答案】B/S 或者浏览器服务器

三、问答题

1、衡量一台微型计算机的主要性能指标有多种,写出其中 3 种。

【试题答案】

- (1) CPU 的性能指标
- (2) 字长
- (3) 运算速度或者 CPU 的时钟频率或者主频
- (4) 内存容量或者内存或者主存容量或者主存或者 RAM 容量
- (5) 输入输出数据传输速率

2、在 Windows7 中,“磁盘管理”工具有多种功能,写出其中 3 种。

【试题答案】

- (1) 查看磁盘的使用情况和分区格式
- (2) 创建磁盘分区
- (3) 格式化磁盘
- (4) 整理磁盘碎片
- (5) 压缩磁盘空间

3、在 Word2010 窗口中包括了 8 个功能区,写出其中 5 个功能区的名称。

【试题答案】

- (1) 文件
- (2) 开始
- (3) 插入
- (4) 页面布局
- (5) 引用
- (6) 邮件
- (7) 审阅
- (8) 视图

4、在 Excel2010 中,有题 49 图所示的工作表数据,“总分”列用于计算每个人的总分,“最高分”行用于计算每门课的最高分。分别写出利用函数在 E2 单元格计算总分和 B5 单元格计算最高分的公式。

	A	B	C	D	E
1	姓名	数学	语文	英语	总分
2	赵明明	86	70	94	
3	王晓东	96	98	99	
4	辛甜甜	78	84	92	
5	最高分				

【试题答案】

- (1) 在 E2 单元格输入:=SUM (B2:D2)
- (2) 在 B5 单元格输入:=MAX (B2:B4)

5、写出在 Powerpoint2010 中,使用“动画刷”将动画效果复制到单个对象上的基本操作步骤。

【试题答案】

- (1) 单击已经设置了动画效果的原对象;
 - (2) 单击“动画”选项卡
 - (3) 单击“动画”组中的“动画刷”按钮;或者按快捷键 Alt+Shift+C
- (替换 (2) 和 (3) 项)

(4) 单击需要复制动画效果的目标对象。

6、数据库设计的基本步骤一般分为 7 个阶段,前两个是规划阶段和需求分析阶段,依次写出后面的 5 个阶段。

【试题答案】概念设计阶段、逻辑设计阶段、物理设计阶段、实现阶段、运行维护阶段

7、在 Internet 中,IP 地址分为私有地址和公有地址两类。写出一个私有地址和一个公有 IP 地址。

【试题答案】

(1) 3 个私有 IP 地址范围:

10.0.0.0~10.255.255.255、172.16.0.0~172.31.255.255、192.168.0.0~192.168.255.255,

属于该范围的 IP 地址均正确

(2) 公有地址为除了私有地址范围内的正确 IP 地址均可。

四、操作题

1、现有文档“银杏树 docx”,其内容如下:

银杏树

银杏树又名白果树,古又称鸭脚树或公孙树。它是世界上十分珍贵的树种之一,是古代银杏类植物在地球上存活唯一品种。

因此,植物学家们把它看做是植物界的“活化石”,并与雪松、南洋杉、金钱松一起,被称为世界四大园林树木。我国园艺学家们也常常把银杏与牡丹、兰花相提并论,誉为“园林三宝”,并把它尊崇为国树银杏的繁殖技术主要包括以下几种:扦插繁殖:扦插繁殖可分为老枝扦插和嫩枝扦插,老枝扦插适用于大面积绿化用苗的繁育,嫩枝扦插适用于家庭或园林单位少量用苗的繁育。分株繁殖:分株繁殖一般用来培育砧木和绿化用苗。嫁接繁殖:嫁接繁殖多用于水果业生产播种繁殖:播种繁殖多用于大面积绿化用苗或制作丛株式盆景。

按照要求写出完成下列操作的步骤

(1) 将首行标题文字“银杏树”设置为黑体、蓝色、居中对齐


(2) 将正文所有段落设置为首行缩进 2 字符、1.5 倍行距。

(3) 为最后 4 段添加项目符号“◆”

(4) 在文档顶部插入页眉“制作人:王明”,右对齐。

【试题答案】

(1) 选中首行文字“银杏树”,在“开始”→“字体”组中分别设置黑体、蓝色,在“段落”组中单击“居中”按钮。

(2) 选中正文所有段落,单击“段落”组右下角的“显示段落对话框按钮”,在弹出的“段落”对话框中设置缩进的“特殊格式”:首行缩进;“磅值”:2 字符;行距:1.5 倍行距。

(3) 选中最后 4 段,单击“开始”→“项目符号”下拉按钮,选择“◆”符号。

(4) 单击“插入”→“页眉”下拉按钮,选择“空白”页眉,并在页眉区输入文字“制作人:王明”。然后,单击“开始”→“文本右对齐”按钮。

2、现有文档“成语故事 html”,其代码如下:

```

①
< head >
< title > 成语故事 < /title >
< /head >
< body >
< h1 > 成语故事汇编 < /h1 >
< h2 > < imgsrc="pic.jpg" > __②__精卫填海__③__ < /h2 >
< pre > 炎帝有个女儿,名叫精卫,性格开朗活泼,喜欢打抱不平。一天…… < /pre >
< h2 > < imgsrc="pic.jpg" > 掩耳盗铃 < /h2 >
< pre > 春秋时候,晋国贵族智伯灭掉了范氏。有人趁机跑到范氏家里想偷点东西,看见院子里吊着一口大钟 < /pre > < /body >
__④__按照要求完善代码并回答问题。
    
```

- (1) 为了构成完整的网页文件,需要在以上源码的①和④处增加什么标记?
- (2) 如果单击文字“精卫填海”则跳转到同目录下的另一个网页文件“jwth.html”,需要在以上源码的②和③处增加什么标记?

(3) 浏览器的标题栏显示什么内容?

(4) 标记 `< pre > ... < /pre >` 的作用是什么?

【试题答案】 (1) ① `< html >` ④ `< /html >`

(2) ② `< a href="jwth.html" >` ③ `< /a >`

(3) 成语故事

(4) `< pre > ... < /pre >` 之间的文字将按原样在浏览器中显示,不改变格式

00018 《计算机应用基础》真题与答案解析 (2018.10)

一、单项选择题

1、下列设备中属于输出设备的是 ()

- A. 扫描仪
- B. 键盘
- C. 鼠标
- D. 显示器

【试题答案】 D

2、在浏览器地址栏输入：http://www.baidu.com，其中“http”代表的是

- A. 协议
- B. 主机
- C. 地址
- D. 端口

【试题答案】 A

3、在 Internet 中，IPv4 地址由

- A. 8 位二进制数组成
- B. 16 位二进制数组成
- C. 32 位二进制数组成
- D. 64 位二进制数组成

【试题答案】 C

4、计算机网络中，任意两台计算机通信都必须经过中心节点的拓扑结构是

- A. 环型
- B. 星型
- C. 总线型
- D. 树型

【试题答案】 B

5、在 Internet 中，TCP/IP 是

- A. 网络地址
- B. 网络操作系统
- C. 网络通信协议

D. 网络拓扑结构

【试题答案】 C

6、在关系数据库中，数据的逻辑结构为

- A. 层次结构
- B. 树形结构
- C. 网状结构
- D. 二维表

【试题答案】 D

7、在 PowerPoint2010 中，下列叙述错误的是

- A. 可以设置幻灯片切换效果
- B. 可以更改动画对象的出现顺序
- C. 不可以对图表中的元素设置动画效果
- D. 不可以直接插入 Flash 动画

【试题答案】 C

8、在 PowerPoint2010 中，若要从第 5 张幻灯片跳转到第 10 张幻灯片，可选择“超链接”命令，其所属的功能区是

- A. “插入”
- B. “切换”
- C. “设计”
- D. “动画”

【试题答案】 A

9、在 Excel2010 主窗口中，编辑栏上“fx”按钮用来向单元格插入

- A. 文字
- B. 数字
- C. 公式
- D. 函数

【试题答案】 D

10、在 Excel2010 工作表中，如题 22 图所示的数据，在 C2 中求 A1+B2 的和，应输入

	A	B	C
1	112	162	348
2	486	596	

A. =A1+B2

- B. "A1+B2"
- C. "=A1+B2"
- D. =SUM (A1:B2)

【试题答案】 A

11、在 Excel2010 公式中，若单元格地址采用绝对地址引用，将其复制到其他单元格时，其单元格地址

- A. 随之改变
- B. 部分改变
- C. 不改变
- D. 发生错误

【试题答案】 C

12、在 Excel2010 工作表中，如题 20 图所示的数据，在 A4 单元格中输入公式 “=SUM (A1: A3) /AVERAGE (A1, A2, A3) ”，则 A4 单元格的值为

	A	B
1	60	
2	70	
3	80	
4		

- A. 4
- B. 3
- C. 2
- D. 1

【试题答案】 B

13、在 Excel2010 的工作表中，单元格地址的行标识由

- A. 字母开头加数字组成
- B. 字母组成
- C. 数字和字母组成
- D. 数字组成

【试题答案】 D

14、在 Excel2010 工作表的单元格中，计算一组数据后出现 “# # # # #”，这是由于

- A. 单元格显示宽度不够
- B. 计算数据出错
- C. 计算公式出错

D. 数据格式出错

【试题答案】A

15、在 Word2010 中，下列叙述错误的是

- A. 可将正在编辑的文档另存为一个纯文本文件
- B. 使用“文件”→“打开”命令，打开一个已存在的 Word 文档
- C. 打印预览时，打印机需处于打开状态
- D. 允许同时打开多个 Word 文档

【试题答案】C

16、在 Word2010 编辑文本时，可以在标尺上直接进行

- A. 段落首行缩进操作
- B. 建立表格
- C. 嵌入图片
- D. 分栏操作

【试题答案】A

17、在 Word2010 文档中插入分节符，便于实现

- A. 修改文档
- B. 创建文档目录
- C. 阅读文档
- D. 创建不同的页眉

【试题答案】D

18、下列有关 Word2010 中进行的格式设置，可在“段落”对话框中实现的是

- A. 字号设置为四号
- B. 设置行距为 1.5 倍
- C. 设置字符间距为加宽 1.8 磅
- D. 将段落分成等宽的 3 栏

【试题答案】B

19、在 Word2010 编辑文档时，所见即所得的视图是

- A. 草稿视图
- B. 页面视图
- C. 大纲视图
- D. Web 版式视图

【试题答案】 B

20、在 Word2010 中，第一次保存新建的文档时，系统将

- A. 打开“新建”对话框
- B. 打开“另存为”对话框
- C. 执行“保存”命令
- D. 执行“关闭”命令

【试题答案】 B

21、在 Windows7 中，“剪贴板”是用于临时存放信息的

- A. 一个窗口
- B. 一个文件夹
- C. 一块内存区域
- D. 一块磁盘区域

【试题答案】 C

22、在 Windows7 的菜单中，若某命令项后面有黑三角“▶”，则表示该命令项

- A. 有下级子菜单
- B. 将弹出对话框
- C. 双击鼠标可直接执行
- D. 单击鼠标可直接执行

【试题答案】 A

23、还原 Windows7 “回收站”中的文件时，将还原到

- A. 桌面上
- B. 被删除的位置
- C. 内存中
- D. “我的文档”中

【试题答案】 B

24、在 Windows7 中，目录结构采用

- A. 树形结构
- B. 线形结构
- C. 层次结构
- D. 网状结构

【试题答案】 A

25、使用拼音输入汉字的编码，属于

- A. 外码
- B. 机内码
- C. 交换码
- D. 字形码

【试题答案】 A

26、十进制数 27 转换成二进制数是

- A. 1011
- B. 1101
- C. 10111
- D. 11011

【试题答案】 D

27、在微型计算机中，执行一个程序时，其加载顺序为

- A. CPU→外存→内存
- B. CPU→内存→外存
- C. 外存→内存→CPU
- D. 内存→外存→CPU

【试题答案】 C

28、一个字节最多可以表示不同的编码个数为

- A. 8 个
- B. 16 个
- C. 128 个
- D. 256 个

【试题答案】 D

29、下列软件中，不属于系统软件的是

- A. Windows7
- B. Oracle
- C. Linux
- D. Word2010

【试题答案】 D

30、基于冯·诺依曼体系结构的计算机硬件系统由

- A. 外部设备组成
- B. 主机组成
- C. 运算器、控制器、存储器、输入设备和输出设备组成
- D. 显示器、键盘、鼠标和打印机组成

【试题答案】 C

二、填空题

1、在 Internet 中，超文本标记语言的英文缩写是_____。

【试题答案】 答案：HTML

2、TCP/IP 协议分为 4 层，包括：应用层、_____、网络层和网络接口层。

【试题答案】 答案：传输层

3、在 Access2010 数据库中，数据保存在_____对象中。

【试题答案】 答案：表

4、在 PowerPoint2010 中，当需要将“制作时间”放置在每张幻灯片的相同位置，可以通过幻灯片_____来实现。

【试题答案】 答案：母版

5、在 Excel2010 中，若 B2 单元格的内容为数值 85，则在 D2 单元格输入公式：=IF (B2>=80, "优", IF (B2>=60, "中", "差"))，其值为_____。

【试题答案】 答案：优

6、在 Excel2010 的“设置单元格格式”对话框中，包含了“_____”“对齐”“字体”“边框”“填充”和“保护”6 个选项卡。

【试题答案】 答案：数字

7、在 Word2010 中，段落缩进有 4 种：左缩进、首行缩进、悬挂缩进和_____。

【试题答案】 答案：右缩进

8、在 Word2010 中，提供了 4 种打印方式，包括：单面打印、双面打印（翻转长边的页面）、双面打印（翻转短边的页面）和_____。

【试题答案】 答案：手动双面打印

9、在 Windows7 中，鼠标的的基本操作有：单击、双击、拖拽和_____。

【试题答案】答案：右击

10、在 Windows7 中，可以打开多个窗口，但只有一个窗口是_____窗口。

【试题答案】答案：当前活动

11、十六进制数 3D8 转换成十进制数是_____。

【试题答案】答案：984

12、一条计算机的指令由_____和操作数（或地址码）组成。

【试题答案】答案：操作码

13、为了解决 CPU 与内存存储器之间速度不匹配问题，一般微型计算机配置_____。

【试题答案】答案：高速缓冲存储器（Cache）

14、微型计算机中，运算器的主要功能是进行_____。

【试题答案】答案：算术运算和逻辑运算

15、微型计算机中，USB 是英文 UniversalSerialBus 的缩写，其中文含义是_____。

【试题答案】答案：通用串行总线

三、问答题

1、互联网的接入方式有多种，写出其中的 4 种名称。

【试题答案】

答：（1）电话线拨号接入（PSTN）。

（2）综合业务数字网（ISDN）。

（3）非对称数字用户线（ADSL）。

（4）CABLEMODEM。

（5）光纤宽带接入。

（6）无线网络。

2、写出数据库应用关系运算中 3 种传统的集合运算。

【试题答案】

答：（1）并：由属于 R 或属于 S 或同时属于 R 和 S 的元组构成的集合，记为：RUS。

（2）交：由同时属于 R 和 S 的元组构成的集合，记为： $R \cap S$ 。

(3) 差：由属于 R 但不属于 S 的元组构成的集合，记为 $R-S$ 。

3、在 PowerPoint2010 中，可以对对象进行 4 种类型的动画设置：“进入”“强调”“退出”和“动作路径”。写出其中“进入”和“强调”的含义。

【试题答案】

答：“进入”是指对象“从无到有”，“强调”是指对象直接显示后再出现的动画效果。

4、在 Excel2010 中，函数 VLOOKUP 有 4 个参数，依次写出各参数的含义。

【试题答案】

答：(1) 判断的条件。

(2) 跟踪数据的区域。

(3) 返回第几列的数据。

(4) 是否精确匹配。

5、写出在 Word2010 中将已插入到文档中的剪贴画，放到第 2 自然段中进行“图文混排”（四周型）的操作步骤。

【试题答案】

答：(1) 通过单击选中已插入到文档中的剪贴画。

(2) 单击“图片工具 | 格式”选项卡下“排列”组中的“自动换行”向下三角按钮，在下拉列表中选择“四周型环绕”。

(3) 拖动剪贴画至第 2 自然段的合适位置。

6、简述在桌面添加“时钟”小工具的操作步骤。

【试题答案】

答：首先在桌面空白处单击鼠标右键，然后在弹出的快捷菜单中选择“小工具”命令，最后在弹出的窗口中双击“时钟”图标。

7、计算机的特点有多个，写出其中 4 个。

【试题答案】

答：(1) 计算速度快。

(2) 计算精度高。

(3) 逻辑性强。

(4) 数据处理量大。

(5) 自动化程度高。

(6) 应用领域广泛。

四、操作题

1、如题图所示，写出将北京科技大学首页（http://www.ustb.edu.cn）添加到“收藏夹”所需的操作步骤。

要求：

- (1) 名称为：北京科技大学；
- (2) 位置为：高校门户网站（需新建）。

【试题答案】

答：(1) 单击浏览器命令栏中的收藏夹图标，在弹出的菜单中选择“添加到收藏夹”命令，弹出“添加收藏”对话框。

(2) 在“添加收藏”对话框中，设置名称为“北京科技大学”；单击“新建文件夹”命令按钮，在弹出的“创建文件夹”对话框中设置创建位置和文件名均为“高校门户网站”。

(3) 在“添加收藏”对话框，单击“添加”按钮。

2、有如题图所示的工作表内容，写出完成下列要求所需的操作步骤：

	A	B	C	D	E	F	G	H
1	工资表							
2	姓名	一月	二月	三月	四月	五月	六月	月平均
3	杨清清	6410	7190	7440	5230	5490	5730	6248
4	沈成	6560	6090	6570	6060	5740	5240	6043
5	陈晓旭	6260	7510	6250	6310	7110	5250	6282
6	曾云尔	6879	6070	5860	6580	7170	5310	6310
7	孙瑞	7380	7260	7490	6780	6780	6790	6905
8	赵震	6270	7050	5460	7160	6530	6320	5465
9	曾露	5940	5860	5780	5260	6630	6090	5927
10	丘陵	7460	5210	5870	5580	6140	6810	6178
11	月最高							

- (1) 在“月最高”行分别计算出每月的最高工资；
- (2) 将标题“工资表”合并居中，设置字号为 18 磅；
- (3) 按照“月平均”字段值进行升序排列；
- (4) 以“月最高”为文件名保存

【试题答案】

答：(1) ①选中 B11 单元格，输入“=MAX (B3: B10)”

②拖动 B11 单元格的填充柄至 G11 单元格。

(2) ①通过拖动鼠标同时选中 A1 至 H1 单元格，单击“开始”选项卡下“对齐方式”组中的“合并后居中”命令。

②单击“开始”选项卡下“字体”组中“字号”右侧的向下三角按钮，在下拉列表中选择 18。

(3) ①选中 A2: H10 单元格区域，单击“数据”选项卡下“排序和筛选”组中的“排序”命令按钮，弹出“排序”对话框。

②在“排序”对话框中，“主要关键字”设置为“月平均”，“排序依据”设置为“数值”，“次序”设置为“升序”，单击“确定”按钮。

(4) ①单击“文件”菜单中“另存为”命令按钮，弹出“另存为”对话框。

②在“另存为”对话框中，设置“文件名”为“月最高”，选择适当的存储位置，单击“保存”按钮。

00018 《计算机应用基础》真题及答案解析 (2019.04)

一、单项选择题

1、在 Windows7 中，要选定多个不连续的文件，需先按住

- A. “Alt” 键，再选定所需文件
- B. “Ctrl” 键，再选定所需文件
- C. “Shift” 键，再选定所需文件
- D. “Tab” 键，再选定所需文件

【试题答案】 B

2、计算机病毒是指侵入计算机中，并破坏计算机正常工作的

- A. 一条指令
- B. 一段程序
- C. 一台设备
- D. 一个文稿

【试题答案】 B

3、将多台计算机连成网络后，不能实现

- A. 线路交换
- B. 资源共享
- C. 信息交换
- D. 数据共享

【试题答案】 A

4、在发送电子邮件时，需将一些文件与邮件正文同时发送，可选择

- A. 记事本
- B. 信纸
- C. 播放器
- D. 附件

【试题答案】 D

5、在浏览器中要浏览某一网站时，应输入该网站的

- A. E-Mail
- B. 协议名
- C. URL
- D. 主机地址

【试题答案】 C

6、在 Access2010 的 SELECT 命令中，用于条件子句的关键字是

- A. GROUPBY
- B. WHERE
- C. HAVING
- D. ORDERBY

【试题答案】 B

7、在 PowerPoint2010 中，将制作完成的演示文稿保存为“PowerPoint 放映”类型，其文件的扩展名是

- A. .ppsx
- B. .potx
- C. .pptx
- D. .exe

【试题答案】 A

8、在 PowerPoint2010 的“设计”功能区中提供了 3 个功能组，不包括的是

- A. 页面设置
- B. 主题
- C. 背景
- D. 图像

【试题答案】 D

9、在 Excel2010 中，数据筛选的功能是显示满足条件的数据，把不满足条件的数据

- A. 删除掉
- B. 隐藏起来
- C. 保存到另一工作表中
- D. 突出显示

【试题答案】 B

10、在 Excel2010 中，已知 C7 单元格的公式：=SUM (C2: C6) ，将其复制到 C8 单元格，则 C8 单元格的公式是

- A. =SUM (C3:C6)
- B. =SUM (C3:C7)
- C. =SUM (C2:C6)
- D. =SUM (C2:C7)

【试题答案】 B

11、在 Excel2010 中，若对工作簿设置权限密码，应选择

- A. “文件”功能区
- B. “开始”功能区
- C. “插入”功能区
- D. “审阅”功能区

【试题答案】D

12、在 Excel2010 中，不属于“迷你图”样式的是

- A. 条形图
- B. 折线图
- C. 柱形图
- D. 盈亏图

【试题答案】A

13、在 Excel2010 中，若数值单元格出现“#####”，正常显示需要

- A. 重新输入数据
- B. 调整单元格的宽度
- C. 删除这些符号
- D. 删除该单元格

【试题答案】B

14、在 Excel2010 中，工作表的基本单位是

- A. 行
- B. 列
- C. 单元格区域
- D. 单元格

【试题答案】D

15、在 Word2010 中，执行“撤销”操作的快捷键是

- A. “Alt+Backspace”
- B. “Alt+Y”
- C. “Ctrl+Backspace”
- D. “Ctrl+Y”

【试题答案】A

16、在 Word2010 的文档页眉中，不能

- A. 插入剪贴画
- B. 插入奇偶页不同的内容
- C. 插入分隔符
- D. 插入日期

【试题答案】 C

17、在 Word2010 “开始”功能区的“段落”组中，“■”按钮表示

- A. 居中对齐
- B. 分散对齐
- C. 左对齐
- D. 两端对齐

【试题答案】 D

18、在 Word2010 中，“插入脚注”按钮属于

- A. “开始”功能区
- B. “插入”功能区
- C. “引用”功能区
- D. “视图”功能区

【试题答案】 C

19、在 Word2010 的打印设置中，可供选择单面打印还是双面打印的方式有

- A. 2 种
- B. 3 种
- C. 4 种
- D. 5 种

【试题答案】 C

20、在 Word2010 中，不能实现保存文档的操作是

- A. 单击“文件”功能区的“保存”命令
- B. 单击快速访问工具栏中的“保存”按钮
- C. 按“Ctrl+S”快捷键
- D. 按“Ctrl+C”快捷键

【试题答案】 D

21、在 Windows7 中，以平面形式展示并切换当前计算机打开的窗口的快捷键是

- A. "Alt+D"
- B. "Windows+D"
- C. "Alt+Tab"
- D. "Windows+Tab"

【试题答案】 C

22、在 Windows7 应用程序窗口中，单击右上角的“■”按钮，其作用是

- A. 关闭窗口
- B. 还原窗口
- C. 最小化窗口
- D. 最大化窗口

【试题答案】 D

23、微型计算机系统中必不可少的软件是

- A. 操作系统
- B. 语言处理程序
- C. 工具软件
- D. 数据库管理系统

【试题答案】 A

24、在汉字字库里，存放的是汉字

- A. 机内码
- B. 输入码
- C. 字形码
- D. 国标码

【试题答案】 A

25、计算机中存储容量 1MB 是

- A. 1024x1024 个字
- B. 1024x1024 个字节
- C. 1000x1000 个字
- D. 1000x1000 个字节

【试题答案】 B

26、十进制数 34 转换成二进制数是

- A. 100000

- B. 100010
- C. 100100
- D. 100110

【试题答案】 B

27、用高级语言编写的程序称为

- A. 编译程序
- B. 编辑程序
- C. 源程序
- D. 目标程序

【试题答案】 C

28、为了区分不同数制，在书写十六进制数时后面加字母

- A. B
- B. D
- C. H
- D. O

【试题答案】 C

29、在计算机中，bit 的中文含义是

- A. 位
- B. 字
- C. 单字节
- D. 两字节

【试题答案】 A

30、计算机能够直接识别和处理的语言是

- A. 汇编语言
- B. 高级语言
- C. 解释语言
- D. 机器语言

【试题答案】 D

二、填空题

1、在 Internet 中，网页信息的传输是通过_____协议来实现的。

【试题答案】答案：HTTP

2、电子邮件地址一般由用户名、“@”和____部分组成。

【试题答案】答案：邮件服务器名

3、数据库管理系统的功能包括____、数据操纵、数据库运行管理和数据库的建立和维护。

【试题答案】答案：数据定义

4、在 PowerPoint2010 中，可对选中的图片进行“进入”“____”“强调”和“动作路径”4 类动画设置。

【试题答案】答案：退出

5、在 Excel2010 工作表的单元格中，若要输入数字字符串 070616，应设置的数据类型是____。

【试题答案】答案：文本

6、在 Excel2010 工作表中，设置某列数据为货币类型，可选择“单元格格式”对话框中的“____”选项卡。

【试题答案】答案：数字

7、在 Word2010 文本编辑时，若要输入： $a+b$ ，应选择“插入”功能区的“符号”组中的“____”按钮。

【试题答案】答案：公式

8、在 Word2010 中，有两种编辑状态：插入状态和____状态。

【试题答案】答案：改写

9、在 Windows7 中，账户类型分为标准用户和____两类。

【试题答案】答案：管理员

10、在 Windows7 桌面中，任务栏由程序按钮区、语言栏、通知区域和____组成。

【试题答案】答案：快速启动区

11、计算机软件一般分为____软件和应用软件两大类。

【试题答案】答案：系统

12、微型计算机的中央处理器由运算器和____两部分组成。

【试题答案】答案：控制器

13、汉字机内码的每个字节的最高位是____。

【试题答案】答案：1

14、在微型计算机中，扫描仪属于____设备。

【试题答案】答案：输入

15、微型计算机性能指标中的“可靠性”是指连续____运行时间的长短。

【试题答案】答案：无故障

三、问答题

1、在 Access2010 中，提供了 4 种查询向导，写出其中 3 种名称。

【试题答案】答：

- (1) 简单查询向导。
- (2) 交叉表查询向导。
- (3) 查找重复项查询向导。
- (4) 查找不匹配项查询向导。

(注：答对 1 个得 1 分，答对 3 个及以上得 5 分)

2、在 PowerPoint2010 中有 3 种母版，写出它们的名称。

【试题答案】答：(1) 幻灯片母版。

- (2) 讲义母版。
- (3) 备注母版。

3、在 Excel2010 中提供了多种图表类型，其中条形图用于显示各个项目之间的比较情况，写出柱形图和折线图的用途。

【试题答案】答：柱形图用于显示一段时间内的数据变化或说明项目之间的比较结果。折线用于显示相同间隔内数据的预测趋势。

4、在 Word2010 中，有 5 种插入表格的方式，写出其中 3 种方式。

【试题答案】答：(1) 插入表格。

- (2) 绘制表格。
- (3) 文本转换成表格。
- (4) Excel 电子表格。
- (5) 快速表格。

(注：答对 1 个得 1 分，答对 3 个及以上得 5 分)

5、简述 Windows7 中剪贴板的作用，并举例说明 3 种应用了剪贴板的操作。

【试题答案】答：剪贴板是内存中的一块区域，是 Windows 内置的一个非常有用的工具，通过小小的剪贴板，在不同的应用之间架起了一座桥梁，使得在各种应用程序之间，传递和共享信息成为可能。应用了剪贴板的操作有：

- (1) 复制
- (2) 剪切
- (3) 粘贴

6、微型计算机上配备了多种接口，写出其中 3 种常用接口名称。

【试题答案】答：(1) PS/2 接口。

- (2) COM1 接口。
- (3) VGA 接口。
- (4) LPT 接口。
- (5) USB 接口。
- (6) RJ-45 接口。

7、在 Internet 中，有多个网络协议，写出其中 3 个协议名称。

【试题答案】答：

- (1) 传输控制协议 (TCP) 。
- (2) 网际协议 (IP) 。
- (3) 用户数据报协议 (UDP) 。
- (4) 数据传输协议 (FTP) 。
- (5) 超文本传输协议 (HTTP) 。
- (6) 简单邮件传输协议 (SMTP) 。

四、操作题

1、在当前打开的演示文稿中完成下列要求，请写出所需的操作步骤：



(1) 如题 1 图所示，将标题“计算机的分类”设置为黑体、72 磅，动画效果为“飞入”。将副标题“规模与构成器件”设置为楷体_GB2312、44 磅，动画效果为“轮子”。

(2) 如题 2 图所示，分别对“巨型机”、“大型机”、“微型机”、“单片机”设置动画效果为“弹跳”。

【试题答案】答：（1）选中标题“计算机的分类”，单击“开始”选项卡下“字体”分组中的“字体”向下三角按钮，在下拉列表中选择“黑体”；单击“开始”选项卡下“字体”分组中的“字号”向下三角按钮，在下拉列表中选择“72”；单击“动画”选项卡下“动画”分组中的“飞入”命令按钮。选中副标题“规模与构成器件”，单击“开始”选项卡下“字体”分组中的“字体”向下三角按钮，在下拉列表中选择“楷体_GB2312”；单击“开始”选项卡下“字体”分组中的“字号”向下三角按钮，在下拉列表中选择“44”；单击“动画”选项卡下“动画”分组中的“轮子”命令按钮。

（2）选中“巨型机”所在占位符，单击“动画”选项卡下“动画”分组中的“弹跳”进入动画效果。采用同样的方式对其他文字设置动画效果。

2、现有一个 Word 文档，其内容如下：

五亭桥

五亭桥有“中国最美的桥”之称，是古代桥梁建筑的杰作。五亭桥位于江苏省扬州市瘦西湖内，是扬州市的地标建筑，五亭桥始建于乾隆二十二年（1757年），是仿北京北海的五龙亭和十七孔桥而建的，又叫莲花桥。“上建五亭、下列四翼，桥洞正侧凡十有五。”建筑风格既有南方之秀，也有北方之雄。中秋之夜，可感受到“面面清波涵月影，头头空洞过云桡，夜听玉人箫”的绝妙佳境，具有极高的桥梁工程技术和艺术水平。

写出完成下列要求所需的操作步骤：

- （1）将标题“五亭桥”设置为：字体“楷体_GB2312”，字号“小二”，且居中对齐；
- （2）用“查找/替换”方法将正文中的所有“五亭桥”字体设置为“黑体”；
- （3）将正文首行缩进二个字符，行距设置为 1.5 倍。

【试题答案】答：（1）选中标题“五亭桥”，单击“开始”选项卡下“字体”分组中的“字体”向下三角按钮，在下拉列表中选择“楷体_GB2312”；单击“开始”选项卡下“字体”分组中的“字号”向下三角按钮，在下拉列表中选择“小二”；单击“开始”选项卡下“段落”分组中的“居中”命令按钮。

（2）单击“开始”选项卡下“编辑”分组中的“替换”命令按钮，弹出“查找和替换”对话框：在“查找和替换”对话框的“替换”选项卡中，单击“更多”命令按钮；在“查找内容”后的文本框中输入“五亭桥”；在“替换为”后的文本框中输入“五亭桥”，单击“格式”向下三角按钮，在下拉列表中选择“字体”，在弹出的“字体”对话框中将字体设置为“黑体”，单击“确定”按钮；单击“全部替换”命令按钮，连续两次单击“确定”按钮；单击“查找和替换”对话框右上方的“关闭”按钮，关闭该对话框。

（3）选中正文内容，单击“开始”选项卡下“段落”分组中的“对话框启动器”，弹出“段落”对话框。在“段落”对话框中，设置“特殊格式”为首行缩进两个字符，设置“行距”为“1.5 倍行距”；单击“确定”按钮。

00018 《计算机应用基础》真题及答案解析（2019.10）

一、单项选择题

1、下列有关计算机病毒叙述中，正确的是

- A. 计算机病毒不破坏优盘中的数据
- B. 计算机病毒不影响计算机运行速度
- C. 计算机病毒造成计算机的网络配置永久性失效
- D. 计算机病毒影响程序的执行或破坏用户数据与程序

【试题答案】 D

2、某用户上网时，在浏览器地址栏输入 <http://www.pku.edu.cn>，其中 http 的含义是

- A. 超文本传输协议
- B. 网际协议
- C. 文件传输协议
- D. 传输控制协议

【试题答案】 A

3、云计算是一种基于互联网的超级计算模式，其主要技术不包含

- A. 分布式处理
- B. 并行处理
- C. 网格计算
- D. 生物计算

【试题答案】 D

4、在 Internet 中，TCP/IP 协议簇分为

- A. 3 层
- B. 4 层
- C. 5 层
- D. 6 层

【试题答案】 B

5、在 Access2010 中，关系型数据库二维表的行称为

- A. 字段
- B. 数据项
- C. 记录
- D. 数据视图

【试题答案】 C

6、在 PowerPoint2010 中，下列有关幻灯片主题叙述错误的是

- A. 主题可以应用于所有幻灯片
- B. 主题可以应用于指定幻灯片
- C. 主题可以在幻灯片母版中更改
- D. 可以对已使用的主题进行更换

【试题答案】 C

7、在 PowerPoint2010 中，可用鼠标拖拽方法改变幻灯片顺序的视图是

- A. 阅读视图
- B. 备注页视图
- C. 幻灯片浏览视图
- D. 幻灯片放映视图

【试题答案】 C

8、在 Excel2010 “页面布局”功能区的“页面设置”组中不能设置的是

- A. 页边距
- B. 纸张大小
- C. 打印区域
- D. 列宽

【试题答案】 D

9、下列有关分类汇总的叙述中，正确的是

- A. 分类汇总需按多个字段分类
- B. 分类汇总的汇总方式只能求和
- C. 分类汇总只能对数值型的字段分类
- D. 分类汇总需先按分类字段进行排序

【试题答案】 D

10、在 Excel2010 中，B5 单元格的公式为：=AVERAGE (\$B\$2: B4) ，将其复制到 D5 单元格后，D5 单元格的公式为

- A. =AVERAGE (\$D\$2: B4)
- B. =AVERAGE (\$D\$2: D4)
- C. =AVERAGE (\$B\$2: D4)
- D. =AVERAGE (\$B\$2: B4)

【试题答案】 C

11、在 Excel2010 中提供了多种图表类型，其中“饼图”用于显示

- A. 各项数据系列的比较情况
- B. 数据系列的数据变化趋势
- C. 在两组数据间查找最优组合
- D. 构成数据系列的项目相对于项目总和的比例大小

【试题答案】 D

12、在 Excel2010 高级筛选中，条件区域的两个条件写在同一行，说明它们之间是

- A. “与”的关系
- B. “非”的关系
- C. “或”的关系
- D. “异或”的关系

【试题答案】 A

13、在 Excel2010 默认状态下，若当前单元格地址为 F5，按 Enter 键后当前单元格地址为

- A. F6
- B. G5
- C. E5
- D. F4

【试题答案】 A

14、在 Word2010 中，若要发送每一个学生自己的成绩单，高效正确的方法是使用

- A. 复制
- B. 引用
- C. 邮件合并
- D. 目录

【试题答案】 C

15、在 Word2010 中，能显示页脚的视图方式是

- A. 页面视图
- B. 大纲视图
- C. 草稿视图
- D. Web 版式视图

【试题答案】 A

16、在 Word2010 中，对已选中的浮于文字上方的图片位置向上微调，应使用

- A. “Alt+↑”键
- B. “Ctrl+↑”键
- C. “Esc+↑”键
- D. “Shift+↑”键

【试题答案】B

17、在 Word2010 中，插入“艺术字”应选择“插入”功能区的

- A. “文本”组
- B. “表格”组
- C. “符号”组
- D. “插图”组

【试题答案】A

18、在 Word2010 中，快捷键“Ctrl+Y”的功能是

- A. 恢复
- B. 撤消
- C. 剪切
- D. 复制

【试题答案】A

19、在 Word2010 “字体”对话框中不能设置

- A. 上标
- B. 删除线
- C. 字符间距
- D. 段落间距

【试题答案】D

20、在 Windows7 中，删除应用程序快捷方式的结果是

- A. 删除了应用程序文件本身
- B. 仅删除了应用程序的快捷方式
- C. 隐藏了快捷方式图标，并未删除与该应用程序的联系
- D. 将快捷方式图标剪切到剪贴板，并删除了与该应用程序的联系

【试题答案】B

21、Windows7 “控制面板”的主要作用是

- A. 调整窗口大小
- B. 设置系统配置
- C. 编辑程序
- D. 设置高级语言

【试题答案】 B

22、在 Windows7 中，关闭当前应用程序窗口可用快捷键

- A. Ctrl+Esc
- B. Ctrl+F4
- C. Alt+Esc
- D. Alt+F4

【试题答案】 D

23、在 Windows7 对话框中，下列元素可同时选中多项的是

- A. 复选框
- B. 文本框
- C. 单选按钮
- D. 命令按钮

【试题答案】 A

24、标准的 ASCII 码共有

- A. 256 个
- B. 255 个
- C. 128 个
- D. 127 个

【试题答案】 C

25、二进制数 110010 转换成十进制数是

- A. 48
- B. 50
- C. 52
- D. 56

【试题答案】 B

26、下列各组中，均属于系统软件的是

- A. Word2010、Excel2010 和 Windows7

- B. 文字处理程序、编译程序和操作系统
- C. 财务处理软件、金融软件和人事管理软件
- D. 程序设计语言处理系统、操作系统和数据库管理系统

【试题答案】D

27、打印机有多种类型，下列速度快、分辨率高的打印机是

- A. 喷墨式
- B. 激光式
- C. 击打式
- D. 点阵式

【试题答案】B

28、CPU 主要技术性能指标为

- A. 效率
- B. 耗电量
- C. 字长和主频
- D. 可靠性和精度

【试题答案】C

29、大型计算机是指运算速度快、处理能力强、存储容量大和

- A. 性价比高的计算机
- B. 价格最昂贵的计算机
- C. 功能完善的计算机
- D. 体积最大的计算机

【试题答案】C

30、计算工具从手工计算阶段、机械计算阶段，一直发展到现今的

- A. 电子计算阶段
- B. 生物计算阶段
- C. 智能计算阶段
- D. 自动计算阶段

【试题答案】A

二、填空题

1、在 Internet 网络中，每台计算机都必须有唯一的_____地址。

【试题答案】答案：IP

2、网络系统由网络硬件和网络_____组成。

【试题答案】答案：软件

3、在 Access2010 中，文本型字段的大小最多_____个字符。

【试题答案】答案：255

4、在 PowerPoint2010 中，有 3 种母版：幻灯片母版、_____母版和备注母版。

【试题答案】答案：讲义

5、在 Excel2010 工作表 D6 单元格中，输入公式：=LEN ("Excel—电子表格")，其结果为_____。

【试题答案】答案：10

6、在 Excel2010 默认状态下，C2: E6 单元格区域包含_____个单元格。

【试题答案】答案：15

7、在 Word2010 中，“修订”组所在的功能区为_____。

【试题答案】答案：审阅

8、用 Word2010 进行编辑时，将已选定的内容剪切到剪贴板，可使用“快捷键”_____。

【试题答案】答案：Ctrl+X

9、在 Windows7 中，优化磁盘包括：磁盘清理和整理磁盘_____。

【试题答案】答案：碎片

10、在 Windows7 中，有_____窗口和应用程序窗口。

【试题答案】答案：文件夹

11、在微型计算机中，通用串行总线的英文缩写是_____。

【试题答案】答案：USB

12、在微型计算机中，存储一个汉字一般占用_____字节。

【试题答案】答案：2

13、字符“D”和字符“a”比较，其 ASCII 码值大的是字符_____。

【试题答案】答案：a

14、计算机高级语言的翻译过程有两种形式，分别是编译和_____。

【试题答案】答案：解释

15、在微型计算机中，总线分为控制总线、_____和地址总线。

【试题答案】答案：数据总线

三、问答题

1、写出网络传输中常用的 3 种有线介质名称。

【试题答案】答：常用的有线传输介质包括双绞线、同轴电缆、光纤等。

2、在 Access2010 窗体中提供了 7 种窗体分类，写出其中 3 种。

【试题答案】答：窗体的分类：1) 纵栏式窗体。2) 表格式窗体。3) 数据表窗体。4) 子窗体。5) 多页窗体。6) 数据透视表。7) 数据透视图。

3、在 PowerPoint2010 中提供了 4 种动画设置类型，写出其中 3 种。

【试题答案】答：进入，强调，退出，动作路径。

4、写出在 Excel2010 工作表中只隐藏第 21 行的方法。

【试题答案】答：选择 21 行，右键，出现隐藏的选项，点击“隐藏”。

5、在 Word2010 “引用”功能区中包括 6 个功能组，写出其中 3 个功能组的名称。

【试题答案】答：目录、脚注和尾注、题注、索引等。

6、在 Windows7 的用户账户管理中，提供多项管理设置功能，如更改密码、删除密码等，写出其他 3 项功能。

【试题答案】答：更改当前账户显示图片、更改当前账户名称、更改当前账户类型。

7、微型计算机中有多种输入设备和输出设备，如键盘和打印机，写出其中 3 种输入设备和 2 种输出设备的名称。

【试题答案】

答：输入设备：鼠标、键盘、扫描仪、麦克风、摄像头、触摸屏等；输出设备：显示器、打印机、音响、耳机等。

四、操作题

1、阅读下列 HTML 源代码：

```
<html>
```

```

<head>
<title>北京大学</title>
</head>
<body><ahref=" http://www.pku.edu.cn ">北京大学</a>
<br>
<pre>
北京大学创办于 1898 年，初名京师大学堂，是中国第一所国立综合性大学，也是当时中国最高教育行政机关。
</pre>
</body>
</html>
    
```

回答如下问题：

- (1) 浏览器标题栏显示的内容是什么？
- (2) <ahref=" http://www.pku.edu.cn ">北京大学的作用是什么？

【试题答案】答：（1）北京大学

- (2) “北京大学”是超链接，点击可前往 <http://www.pku.edu.cn>。

2、现有一个 Word2010 文档，其内容如下：

山药

“温补而不骤，微香而不燥”，宜于春季食用，有补益肺、脾、肾之功效。山药健脾益气，可防止春天肝气旺而伤脾；补肾益精，可增强人体免疫力。所含黏液蛋白有助于保持消化道、呼吸道的润滑，所含的尿囊素还可预防手足皲裂。

写出完成下列要求所需的操作步骤：

- (1) 在标题文字“山药”前插入一个符号“（”；
- (2) 将文字“温补而不骤，微香而不燥”加边框。

【试题答案】答：（1）鼠标置于“山药”前，选择“插入”按钮，点击符号中“其他符号”，找到“书本”符号。

- (2) 选择文字“温补而不骤，微香而不燥”，单击“开始”【字体】组中的【字符边框】按钮。

00018 《计算机应用基础》真题及答案解析（2020.08）

一、单项选择题

1、在 Internet 中，用户数据报协议（UDP）处于 TCP/IP 协议簇的

- A. 应用层
- B. 传输层
- C. 网络层
- D. 网络接口层

【试题答案】 B

2、通常在家庭中充当中心接入设备（AP）的是

- A. 交换机
- B. 无线网卡
- C. 调制解调器
- D. 无线路由器

【试题答案】 D

3、在收发邮件时，接收邮件所使用的协议是

- A. FTP
- B. HTTP
- C. POP3
- D. SMTP

【试题答案】 C

4、下列不属于私有 IP 地址的是

- A. 10.105.128.73
- B. 172.16.128.73
- C. 192.168.128.73
- D. 202.105.128.73

【试题答案】 D

5、Access2010 数据库采用的数据模型属于

- A. 层次模型
- B. 网状模型
- C. 关系模型
- D. 面向对象模型

【试题答案】 C

6、在 PowerPoint2010 中，“超链接”的基本作用是

- A. 幻灯片的移动
- B. 幻灯片的复制
- C. 幻灯片的插入
- D. 幻灯片的跳转

【试题答案】 D

7、在 PowerPoint2010 中提供多种视图，能显示一张幻灯片并进行文本编辑的视图是

- A. 普通视图
- B. 幻灯片放映视图
- C. 阅读视图
- D. 幻灯片浏览视图

【试题答案】 A

8、在 Excel2010 的 B3 单元格中，输入公式： $=SUM(1+2=3, 1, 2, 3, 1+1=3)$ ，其值为

- A. 5
- B. 6
- C. 7
- D. 8

【试题答案】 C

9、在 Excel2010 默认状态下完成序列填充，下列不能使用填充柄实现的是

- A. 1月、2月、...、12月
- B. 一月、二月、...、十二月
- C. 第1周、第2周、...、第12周
- D. 第一周、第二周、...、第十二周

【试题答案】 D

10、在 Excel2010 中，G4 单元格输入公式： $=C5*2$ ，其中 C5 单元格所采用的引用类型为

- A. 相对地址引用
- B. 绝对地址引用
- C. 混合地址引用
- D. 固定地址引用

【试题答案】 A

11、在 Excel2010 的一个工作簿中可以含有多个工作表，其最多可包含

- A. 1 个
- B. 3 个
- C. 255 个
- D. 256 个

【试题答案】 C

12、在 Excel2010 默认状态下，对当前单元格输入完数据按回车（Enter）键后，其活动单元格位于原单元格的

- A. 上面
- B. 下面
- C. 左面
- D. 右面

【试题答案】 B

13、Excel2010 工作簿的默认扩展名为

- A. .pptx
- B. .accdb
- C. .docx
- D. .xlsx

【试题答案】 D

14、在 Word2010 文档编辑中，若要在屏幕上查看其排版输出的效果，可使用

- A. 打印预览
- B. 模拟打印
- C. 打印输出
- D. 屏幕打印

【试题答案】 A

15、在 Word2010 中，若对输入的文本添加“下划线”，可在

- A. “字体”对话框中设置
- B. “样式”对话框中实现
- C. “边框和底纹”对话框中设置
- D. “页面设置”对话框中实现

【试题答案】 A

16、在 Word2010 中，页边距的设置可在

- A. “段落”对话框中实现
- B. “样式”对话框中实现
- C. “边框和底纹”对话框中实现
- D. “页面设置”对话框中实现

【试题答案】D

17、Word2010 中有多种方法打开“段落”对话框，下列操作不能实现的是

- A. 使用“开始”→“段落”→“居中”
- B. 使用“开始”→“段落”→“段落”
- C. 使用“页面布局”→“段落”→“段落”
- D. 使用“开始”→“段落”→“行和段落间距”

【试题答案】C

18、在 Word2010 中，将文档中一部分内容复制到另处，首先要进行的操作是

- A. 复制
- B. 选择
- C. 粘贴
- D. 视图

【试题答案】B

19、在 Word2010 中输入文本时，用回车（Enter）键设置的是

- A. 段落结束标志
- B. 分页标志
- C. 节的结束标志
- D. 行的结束标志

【试题答案】A

20、下列属于 Windows7 磁盘管理中“优化磁盘”功能的是

- A. 磁盘共享
- B. 更改磁盘盘符
- C. 整理磁盘碎片
- D. 磁盘分区重新规划

【试题答案】C

21、在 Windows7 资源管理器的当前窗口，选定所有文件可使用的快捷键是

- A. Alt+A
- B. Esc+A
- C. Ctrl+A
- D. shift+A

【试题答案】 C

22、在 Windows7 桌面中，属于系统自带图标的是

- A. 记事本
- B. 回收站
- C. Word 应用程序
- D. 360 杀毒软件

【试题答案】 B

23、在 Windows7 中，弹出“开始菜单”的快捷键是

- A. Ctrl+Alt
- B. Ctrl+Esc
- C. Ctrl+Shift
- D. Ctrl+Win

【试题答案】 B

24、下列字符中 ACSII 码值最大的是

- A. e
- B. h
- C. F
- D. M

【试题答案】 B

25、十进制数 19 转换为二进制数是

- A. 10010
- B. 10011
- C. 10100
- D. 10101

【试题答案】 B

26、微型计算机内存的基本单位是

- A. 位

- B. 字长
- C. 字节
- D. 双字

【试题答案】 C

27、能被中央处理器（CPU）直接读取数据的存储部件是

- A. 内存
- B. 硬盘
- C. 光盘
- D. 优盘

【试题答案】 A

28、在计算机发展过程中，使用大规模或超大规模集成电路作为关键部件的计算机属于

- A. 第一代计算机
- B. 第二代计算机
- C. 第三代计算机
- D. 第四代计算机

【试题答案】 D

29、下列不属于微型计算机数据库管理系统的是

- A. Oracle
- B. SQLServer
- C. UNIX
- D. Access

【试题答案】 C

30、汉字 16×16 点阵字库中，每个汉字的字形码所店用的存储空间为

- A. 16 个字节
- B. 32 个字节
- C. 64 个字节
- D. 128 个字节

【试题答案】 B

二、填空题

1、博客用户的网络日志主要包括：标题、___和正文 3 部分。

【试题答案】 答案：标签

2、在 Internet 中，IPv4 由____位二进制数组成。

【试题答案】 答案：32/三十二

3、在 Access2010 中，创建窗体的方法有：自动创建窗体、窗体向导和____。

【试题答案】 答案：设计视图/窗体设计器

4、在 PowerPoint2010 中，通过母版、____、背景和样式可使每张幻灯片具有统一的风格。

【试题答案】 答案：主题

5、在 excel2010 中，数据如题图所示，在 A2 单元格输入公式： $=SUM(A1:C1)/D1$ ，其值为____。

	A	B	C	D
1	2	3	7	3

【试题答案】 答案：4

6、在 Word2010 中，使用“页面布局”功能区的“____”插入分节符。

【试题答案】 答案：页面设置

7、在 Word2010 的“____”功能区中，可以添加文本框。

【试题答案】 答案：插入

8、Windows7 提供了 4 种桌面图标排列方式，分别是：名称、____、项目类型和修改日期。

【试题答案】 答案：大小

9、在 Windows7 应用程序窗口中，标题栏右侧有 3 个按钮，分别是“最大化/还原”按钮、“____”按钮和“关闭”按钮。

【试题答案】 答案：最小化

10、十六进制数转换为二进制数的规则是：将一位十六进制数用等值的____位二进制数代替。

【试题答案】 答案：4/四

11、计算机软件一般划分为系统软件和____软件两大类。

【试题答案】 答案：应用

12、扫描仪是微型计算机常用的_____设备。

【试题答案】答案：输入

13、在 Excel2010 中，将当前工作表 D6 单元格与“学生”工作表 D6 单元格求和的公式：=D6+_____。

【试题答案】答案：学生! D6/学生! D\$6/学生! \$D\$6（大小写字母不限）

14、ROM 存储器中的信息，通常情况下识别被_____。

【试题答案】答案：读出/只读/读取

15、微型计算机的 CPU 由_____和控制器两部分组成。

【试题答案】答案：运算器

三、问答题

1、微型计算机的 CR 具有多个控制执行功能，请写出其中 3 个功能名称。

【试题答案】答：程序控制、操作控制、时间控制、数据运算

2、电子邮件地址由 3 部分组成，写出各部分的名称。

【试题答案】答：用户名、专用的分隔符号（@）、邮件服务器名。

3、在 Access 中的字段数据类型有 9 种，写出其中 4 种数据类型。

【试题答案】答：文本、备注、数字、日期/时间、货币、是/否、OLE 对象、超链接、附件。

4、写出在 PowerPoint2010 中，设置幻灯片自动切换时间间隔的操作步骤。

【试题答案】答：选定幻灯片→“切换”→“计时”→“换片方式”→设置自动换片时间。

5、在 Excel2010 中提供了 11 种图表类型，写出其中 4 种图表类型名称。

【试题答案】答：柱形图、条形图、折线图、饼图、XY 散点图、面积图、圆环图、雷达图、曲面图、气泡图、股价图。

6、写出在 Word2010 中插入页眉的操作步骤。

【试题答案】

答：方法 1：“插入”→“页眉和页脚”中“页眉”命令，弹出的页眉类型中选择页眉。

方法 2：“页面布局”→“稿纸设置”。

方法 3：双击页边距。

7、在 Windows7 的资源管理器中，要删除选中文件的方法有多种，写出其中 3 种方法。

【试题答案】答：

方法 1：用 Del 键或者用 Delete 键或者用 Shift+Del 键；

方法 2：使用快捷菜单中的“删除”；

方法 3：使用“文件”菜单中的“删除”；

方法 4：使用“组织”菜单，选中“删除”命令；

方法 5：用鼠标拖拽到“回收站”。

四、操作题

1、现有一个 Word2010 文档，其内容如下：

南旬自古以来便是湖州的经济文化重镇，自两宋时期便以盛产优质生丝闻名，
 明清时期成为典型的江南丝绸市镇，出产的丝成为皇家织造的指定原料。近代，以上海开埠为契机，南旬较早地受欧美文化的影响，丝商迅速崛起。

写出完成下列要求所需的操作步骤：

(1) 把“旬”替换成“浔”；

(2) 把文本设置成两栏。

【试题答案】答：(1) “开始”→“编辑”→“替换”（或者按 Ctrl+快捷键），在“查找内容”后面文本框中输入：旬，在“替换为”后面的文本框中输入：浔，单击“全部替换”按钮。

(2) 在“页面布局”→“页面设置”→“分栏”→“两栏”。

2、在 Windows7 中，有如题 1 图中所示和如 2 图所示的两个窗口。

(1) 将如题 1 图中“春季养生食谱”文件移动到如题 2 图所示的“养生小常识”文件夹中。

(2) 将如题 1 图中“学习资料 1”文件夹设置为隐藏属性。

【试题答案】

答：(1) 方法 1：选中“春季养生食谱”文件→“剪切”（或者按 Ctrl+X 快捷键）→“养生小常识”文件夹→“粘贴”（或者按 Ctrl+V 快捷键）。

方法 2：选中“春季养生食谱”文件→按住 Shift 键用鼠标把选中文件拖拽到“养生小常识”文件夹→释放 Shift 键与鼠标键即可。

(2) 选中“学习资料 1”文件夹→“属性”→“常规”。

00018 《计算机应用基础》真题及答案解析 (2020.10)

一、单项选择题

1、在互联网接入技术 ADSL 中，通信信道一般分为上行和下行两部分，其特点是

- A. 上行带宽高于下行
- B. 下行带宽高于上行
- C. 上行带宽和下行带宽相同
- D. 带宽随着网速动态发声变化

【试题答案】 B

2、云计算是一种基于互联网的超级计算模式，其中“云”是指

- A. 各个终端用户
- B. 计算机
- C. 提供资源的网络
- D. 连接计算机和网络资源的线路

【试题答案】 C

3、以下网络协议中，属于应用层协议的是

- A. TCP
- B. FTP
- C. IP
- D. ARP

【试题答案】 B

4、能够实现在计算机和网络介质之间进行信息编码转换的设备是

- A. 网卡
- B. 集线器
- C. 交换机
- D. 路由器

【试题答案】 A

5、在 Access2010 中允许使用多种数据类型，不包括

- A. 文本
- B. 备注
- C. 图片
- D. 数字

【试题答案】 C

6、下列有关设置 PowerPoint2010 演示文稿动画效果的叙述中，正确的是

- A. 通过调整“持续时间”，可以让动画经过一定时间后才出现
- B. 通过调整“延迟时间”，可以改变动画出现的快慢
- C. 已经设置好的动画效果不能被删除
- D. 幻灯片中的同一个对象，可以设置多种动画效果

【试题答案】 D

7、在 PowerPoint2010 中，对对象可以进行四种动画设置，不包括

- A. 进入
- B. 退出
- C. 强调
- D. 自定义

【试题答案】 D

8、若已将 Excel2010 工作表 A1 单元格设为数值格式，当其中输入的数字超出列宽时，A1 单元格显示

- A. #####
- B. #VALUE
- C. 从高位截取列宽显示的数字位数
- D. 从低位截取列宽显示的数字位数

【试题答案】 A

9、Excel2010 的图标类型中，XY 图是指

- A. 折线图
- B. 饼图
- C. 散点图
- D. 面积图

【试题答案】 C

10、在 Excel2010 中可以为单元格命名，下列单元格名称正确的是

- A. A3
- B. 3A
- C. 成绩.优
- D. 成绩优

【试题答案】 C

11、已知 Excel2010 工作表包含如题图所示数据，B2 单元的公式为： $=B1+5A2$ ，将 B2 单元格的公式复制到 D3 单元格，则 D3 单元格中显示的结果为

	A	B	C	D	E
1	1	3	5	4	2
2	4	7	2	9	6
3	6	2	1		8
4	5	1	8	9	3

- A. 5
- B. 7
- C. 10
- D. 15

【试题答案】D

12、在 Excel2010 中，创建自定义序列的操作是

- A. “开始” → “填充” → “系列”
- B. “插入” → “对象”
- C. “数据” → “排序和筛选” → “高级”
- D. “文件” → “选项” → “高级”

【试题答案】D

13、下列有关 Excel2010 工作簿和工作表的叙述中，正确的是


- A. 每个 Excel 工作表由 256×256 个单元格组成
- B. 工作簿是处理和存储数据的文件，最多可包含 255 个工作表
- C. 启动 Excel 后，默认的工作簿名称为“Book”
- D. 启动 Excel 后，会自动新建一个名为“sheet”的工作表

【试题答案】B

14、下列有关 Word2010 文档自动生成目录的叙述中，正确的是

- A. 通过目录项能够直接定位到某个段落
- B. 自动生成目录的前提是首先对文档标题设置相同的字体
- C. 自动生成目录的前提是首先对文档标题设置不同的段落缩进
- D. 对文档进行修改后，不可通过“更新域”操作更新目录

【试题答案】A

15、在 Word2010 的“开始”“段落”组中，按钮表示

- A. 居中对齐
- B. 分散对齐
- C. 左对齐
- D. 两端对齐

【试题答案】C

16、若在 Word2010 文档编辑时产生了误操作，可以实现“撤销”操作的是

- A. 单击“开始”功能区的格式刷按钮
- B. 单击“快速访问工具栏”中的“撤销”按钮
- C. 按 Alt+Backspace 快捷键
- D. 按 Ctrl+Y 快捷键

【试题答案】C

17、在 Word2010 中进行编辑时需将选定区域的内容放到剪贴板上，可使用

- A. “剪切”或“替换”操作
- B. “复制”或“粘贴”操作
- C. “复制”或“剪切”操作
- D. “剪切”或“粘贴”操作

【试题答案】C

18、Word2010 提供了多种视图，其中可以显示页眉页脚的视图是

- A. 阅读版式视图
- B. 页面视图
- C. Web 版式视图
- D. 大纲视图

【试题答案】B

19、在 Word 文档中，若要对当前页面中的某些文字进行注解，需添加

- A. 脚注
- B. 尾注
- C. 超链接
- D. 题注

【试题答案】A

20、在 Windows7 “资源管理器” 窗口左侧的窗格中，显示文件夹结构采用的是

- A. 线形结构
- B. 树形结构
- C. 表格结构
- D. 网状结构

【试题答案】 B

21、下列有关 Windows7 对话框叙述中，正确的是

- A. 对话框不包含标题栏
- B. 通过拖拽边框能够改变对话框大小
- C. 对话框能够被最大化
- D. 对话框的外观和内容通常根据应用程序的不同而不同


【试题答案】 D

22、Windows7 的应用程序窗口中，一般不存在

- A. “关闭”按钮
- B. “最小化”按钮
- C. “最大化/还原”按钮
- D. “确定”按钮

【试题答案】 D

23、下列有关快捷方式的叙述中，错误的是

- A. 快捷方式可以在安装应用程序时自动产生
- B. 快捷方式可以由用户自主创建
- C. 快捷方式图标的左下角有一个 
- D. 删除应用程序的快捷方式后，相应的应用程序也被删除

【试题答案】 D

24、对于 32×32 的点阵字库，每个汉字的字形码需要占用存储空间的字节数是

- A. 128
- B. 72
- C. 64
- D. 32

【试题答案】 A

25、将汉字国标码（GB2312—1980）转换为对应的机内码，所采用的转换方法是

- A. 将每个字节的最高位置 1
- B. 将每个字节的最低位置 1
- C. 将低字节的最高位置 1
- D. 将高字节的最高位置 1

【试题答案】 A

26、下列存储容量与 1GB 等价的是

- A. 1000KB
- B. 1000MB
- C. 1024KB
- D. 1024MB

【试题答案】 D

27、二进制数 101101.11 对应的十六进制数是

- A. 2D.3
- B. B1.C
- C. 2D.C
- D. B1.3

【试题答案】 C

28、将计算机高级语言编写的源程序翻译成目标程序的过程称为

- A. 编译
- B. 解释
- C. 汇编
- D. 编辑

【试题答案】 A

29、在微型计算机中，RAM 是指

- A. 顺序存取存储器
- B. 随机存取存储器
- C. 直接存取存储器
- D. 按内容访问存储器

【试题答案】 B

30、第二代电子计算机采用的逻辑器件是

- A. 电子管
- B. 晶体管
- C. 集成电路
- D. 大规模集成电路

【试题答案】 B

二、填空题

1、IPv6 中 IP 地址的长度为_____位 (bit) 。

【试题答案】 答案：128

2、在数据库的概念设计阶段，用_____模型描述实体之间的联系。

【试题答案】 答案：实体联系或者 E-R

3、在 PowerPoint2010 中，快速设置多个对象相同的动画效果可使用_____工具。

【试题答案】 答案：动画书

4、在 Excel2010 中，数据管理功能主要包括：排序、筛选和_____。

【试题答案】 答案：分类汇总

5、Excel2010 支持两种单元格的引用样式，即 A1 引用样式和_____引用样式。

【试题答案】 答案：R1C1

6、在 Word2010 中，选一段文字后，按住 Ctrl 键并将其拖拽到目标位置，可实现_____操作。

【试题答案】 答案：复制或者拷贝或者 COPY

7、在 Word2010 中，保存当前正在编辑的文档，可使用快捷键_____。

【试题答案】 答案：Ctrl+S

8、在 Windows7 中，可对磁盘进行分区操作。每创建一个新的分区 Word2010 中，为其分配一个_____。

【试题答案】 答案：驱动器号或者盘符

9、在 Windows7 中，若要将选定的文件剪切到剪贴板中，可以按“_____”快捷键。

【试题答案】 答案：Ctrl+X

10、自由软件又称为____，它是完全向用户免费的软件。

【试题答案】答案：开源软件

11、若要执行一个程序，应将其加载到____后才能被 CPU 执行。

【试题答案】答案：内存或者内存存储器或者 RAM 或者主存（大小写字母不限）

12、二进制数 101011 对应的十进制数是____。

【试题答案】答案：43

13、一个字节最多可以表示____个不同的编码。

【试题答案】答案：256

14、一条机器指令通常包括两个部分：____和地址码。

【试题答案】答案：操作码

15、统一资源定位器的英文缩写是____。

【试题答案】答案：URL

三、问答题

1、互联网服务器提供信息处理服务的方式主要有 C/S 和 B/S 两种，分别简述其含义及特点。

【试题答案】答：（1）C/S 指客户机/服务器模式或者 Client/Server 模式。（1分）

（2）C/S 特点是需要安装特定的客户端软件。（1分）

（3）B/S 指浏览器/服务器模式或者 Browser/Server 模式。（1分）

（4）B/S 特点是不需安装任何客户端软件，而是通过 www 浏览器来访问 Web 服务器获取信息。（2分）

2、在关系数据库中，关系的性质有多种，写出其中的 3 种。

【试题答案】答：（1）关系中每个元组（记录）的分量必须是原子的，即表的每一列都是不可再分的；

（2）表中每一列的值只能取自同一个域；

（3）表中列的次序可以任意交换；

（4）表中行的次序可以任意交换；

（5）表中不允许出现完全相同的两行。

3、简述 PowerPoint2010 中动画与切换功能的区别。

【试题答案】答：动画用于设置演示文稿放映时每个幻灯片上各个对象的动画显示效果。（3分）切换用于设置演示文稿放映时不同幻灯片之间的换片方式。（2分）

4、简述 Excel2010 中对于单元格的相对引用和绝对引用的区别。

【试题答案】答：（1）相对引用：复制或自动填充时，单元格地址随着目的单元格的改变而改变。
（2）绝对引用：复制或自动填充时，单元格地址随着目的单元格的改变而保持不变。

5、简述 Word2010 中“格式刷”的作用及使用方法。

【试题答案】答：用于快速对文档中的多处文字或段落设置相同的格式，可以实现一次设置多次使用。（2分）
使用方法：选中已设置好格式的文字，单击格式刷，然后将鼠标移到要应用该格式的文字处并拖动鼠标即可。（2分）
通过双击格式刷，可以对多处文档实现相同格式的设置。（1分）

6、微型计算机操作系统的主要任务有多个，写出其中 4 个任务名称。

【试题答案】答：（1）进程管理或者 CPU 管理；
（2）输入输出管理或者设备管理；
（3）文件管理；
（4）输入输出管理或者设备管理；
（5）网络通信管理；
（6）安全机制管理；
（7）驱动程序管理。

7、写出题图所示的微型计算机主要接口名称。



- (1) _____
- (2) _____
- (3) _____

【试题答案】答：（1）电源接口或者电源

（2）PS/2 接口或者 PS/2 或者键盘接口或者鼠标接口

（3）VGA 接口或者 VGA 或者显示器

四、操作题

1、现有 PowerPoint2010 文档文件“古诗欣赏.pptx”，如题图所示。



写出完成下列要求所需的操作步骤：

- （1）设置幻灯片模板为 PowerPoint2010 内置的主题“暗香扑面”；
- （2）为第 2 张幻灯片中的文字“望庐山瀑布”设置超链接，链接到第 4 张幻灯片；
- （3）为第 6 张幻灯片中的文字“谢谢观赏！”添加“飞入”动画效果；
- （4）以原文件名保存文档。

【试题答案】答：（1）单击“设计”→“主题”→“暗香扑面”。

（2）选中第 2 张幻灯片中的“望庐山瀑布”文字，单击鼠标右键，选择“超链接”命令。

（3）选中第 6 张幻灯片中的“谢谢观赏！”，单击动画“动画”→“飞入”。

（4）单击自定义快速访问工具栏中的“保存”按钮。

2、现有 Word2010 文档文件“计算机基础.docx”，其内容如题图所示。

第一章 计算机基础知识

计算机的产生被人认为是 20 世纪最伟大的发明之一，自 1946 年第一台电子计算机诞生以来，计算机以迅猛的速度渗透到了社会生活的各个领域，人类正在步入以计算机为基础的信息时代。

第二章 计算机信息安全

计算机安全主要包括计算机系统的安全和网络方面的安全，随着全球信息化已经成为人类发展的趋势，又由于网络的开放性和互联性等特征，使得信息系统的安全成为一项很重要的工作。

2.1 计算机病毒

在《中华人民共和国计算机信息系统安全保护条例》中的定义为：“计算机病毒是指编制或者在计算机程序中插入的破坏计算机功能或者数据，影响计算机使用并且能够自我复制的一组计算机指令或者程序代码。”

计算机病毒的特点主要包括：

- 寄生性
- 传染性
- 潜伏性
- 隐蔽性
- 破坏性

2.2 网络黑客

网络黑客（hacker）一般指的是计算机网络的非法入侵者，他们大多是程序员，通常具有硬件和软件的高级知识，并有能力通过创新的方法剖析系统。“黑客”能使更多的网络趋于完善和安全，他们以保护网络为目的，而以不正当侵入为手段找出网络漏洞。

写出完成下列要求所需的操作步骤：

- (1) 设置第一章、第二章标题为标题 1 样式，2.1、2.2 标题为标题 2 样式；
- (2) 为文档 2.1 节中的“寄生性”“传染性”“潜伏性”“隐蔽性”“破坏性”分别添加项目编号 (1) ~ (5)；
- (3) 将文件以“E:\123\计算机基础—新.docx”保存。

【试题答案】答：(1) 选中第一章、第二章标题，单击“开始”→“样式”→“标题 1”。(2 分) 选中 2.1、2.2 节标题，单击“开始”→“样式”→“标题 2”。(2 分)

(2) 选中“寄生性”开始的 5 段内容，单击“开始”→“段落”→“编号”右侧的下拉按钮，选择圆括号的项目编号。

(3 分)

(3) 单击“文件”→“另存为”，将保存路径设为“E:\123”，文件命名为“计算机基础—新.docx”，单击“保存”按钮。(3 分)

00018 《计算机应用基础》真题及答案解析 (2021.04)

一、单项选择题

1、下列有关 SQL 语言的叙述中，正确的是

- A. SQL 语言每个命令的操作对象只能是一个关系
- B. SQL 语言可以独立使用，也可以嵌入到宿主语言中
- C. 相对自然语言的简洁易用，SQL 语言的使用非常繁琐
- D. SQL 语言是过程语言，用户需要了解数据存取的路径

【试题答案】 B

2、在 PowerPoint2010 多张幻灯片中，不能通过幻灯片母版统一设置的是

- A. 背景图案
- B. 标题内容
- C. 文字位置
- D. 文字格式

【试题答案】 B

3、在 PowerPoint2010 中创建“链接”，除了使用“超链接”命令，还可使用

- A. “动作”按钮
- B. 动画效果
- C. 幻灯片切换
- D. 自动播放

【试题答案】 A

4、在 Excel2010 中，删除当前单元格内容和格式，应使用

- A. Del 键
- B. Backspace 键
- C. “清除”命令
- D. “删除”命令

【试题答案】 C

5、在 Excel2010 默认状态下，数据如题图所示，在 A2 单元格中输入公式：=AVERAGE (A1: C1) ，其结果为

	A	B	C
1	2		4

- A. 1
- B. 2

C. 3

D. #VALUE!

【试题答案】 C

6、在 Excel2010 工作表 E3 单元格中，输入 123 并回车，显示为¥123，则 E3 单元格所设置的数字类型为

A. 数值

B. 科学记数

C. 分数

D. 货币

【试题答案】 D

7、在 Excel2010 工作表 D3 单元格中，输入公式：=C\$2+\$A1，将其复制到 E4 单元格后，E4 单元格的公式为

A. =D\$2+\$A2

B. =D\$2+\$A1

C. =C\$2+\$A2

D. =C\$2+\$A1

【试题答案】 A

8、Excel2010 “数据”功能区不包括的功能组是

A. 分级显示

B. 排序和筛选

C. 数据工具

D. 表格

【试题答案】 D

9、在 Excel2010 中，可在一个单元格内显示出一组数据的变化趋势，让用户获得直观、快速数据的可视化显示的是

A. 图表

B. 迷你图

C. 条件格式

D. 排序和筛选

【试题答案】 B

10、在 Word2010 文档编辑中，若当前行已使用了项目符号，则下一个项目符号会在

A. 按回车键后自动出现

B. 按 Ctrl 键时自动出现

C. 按 Tab 键后自动出现

D. 文字输入超过右边界时自动出现

【试题答案】A

11、在 Word2010 中，若将正在编辑的名为“数据库.docx”的文件存为“Data.docx”，应使用的命令是

- A. 保存
- B. 另存为
- C. 复制
- D. 新建

【试题答案】B

12、在 Word2010 中，不能在“段落”对话框中设置的行距类型是

- A. 固定值
- B. 双倍行距
- C. 最大值
- D. 多倍行距

【试题答案】C

13、在 Word2010 文档编辑中，若要直观地看到变化的内容，可使用“审阅”功能区中的

- A. “更改”组
- B. “修订”组
- C. “批注”组
- D. “校对”组

【试题答案】B

14、在 Word2010 中，“邮件合并”不能使用的数据源是

- A. Access 数据库
- B. Excel 工作簿
- C. PowerPoint 演示文稿
- D. Word 文档

【试题答案】C

15、在 Word2010 中，“开始”功能区包含的功能是

- A. 插入图片
- B. 设置页边距
- C. 更新目录
- D. 更改字间距

【试题答案】 D

16、在 Windows7 中，按“Del”键删除硬盘的“Temp.txt”文件是将其

- A. 放入“回收站”
- B. 放入“我的文档”
- C. 彻底从硬盘中删除
- D. 彻底从“库”中删除

【试题答案】 A

17、在 Windows7 中，下列有关窗口和对话框的叙述正确的是

- A. 窗口和对话框都可以改变大小
- B. 窗口和对话框都不可以改变大小
- C. 窗口可以改变大小，对话框不可以改变大小
- D. 窗口不可以改变大小，对话框可以改变大小

【试题答案】 C

18、在 Windows7 中，下列用以组织和管理文件和文件夹的是

- A. 资源管理器
- B. 控制面板
- C. 账户管理
- D. 设备管理

【试题答案】 A

19、适用于移动智能终端的一组操作系统是

- A. Windows7 和 iOS
- B. Windows7 和 UNIX
- C. Android 和 iOS
- D. Android 和 UNIX

【试题答案】 C

20、对于二进制数 10010.01，下列每一位的权值正确的是

- A.

2^5	2^4	2^3	2^2	2^1	.	2^{-1}	2^{-2}
1	0	0	1	0	.	0	1

- B.

2^4	2^3	2^2	2^1	2^0	.	2^{-1}	2^{-2}
1	0	0	1	0	.	0	1
- C.

2^6	2^5	2^4	2^3	2^2	.	2^1	2^0
1	0	0	1	0	.	0	1
- D.

2^7	2^6	2^5	2^4	2^3	.	2^2	2^1
1	0	0	1	0	.	0	1

【试题答案】 B

21、计算机能够直接识别和执行的语句是

- A. printf ("%d",a) ;
- B. LET A=A+B
- C. mov ax,bx
- D. 100010110100010111111100

【试题答案】 D

22、计算机区别于其他计算设备的本质特点是

- A. 计算速度快
- B. 计算精度高
- C. 自动化程度高
- D. 处理数据量大

【试题答案】 C

23、大写字母“A”的ASCII码是01000001，则小写字母“a”的ASCII码是

- A. 01000011
- B. 01100001
- C. 01110001
- D. 01111001

【试题答案】 B

24、某计算机系统属性中显示“酷睿 i73.60GHz”，其中“3.60GHz”表示

- A. 主频
- B. 倍频
- C. 外频
- D. 字长

【试题答案】 A

25、微型计算机采用的基本逻辑元件是

- A. 集成电路
- B. 电子管
- C. 晶体管
- D. 大规模、超大规模集成电路

【试题答案】 D

26、下列计算工具，不属于手工计算阶段的是

- A. 算盘
- B. 计算尺
- C. 算筹
- D. 巴贝奇

【试题答案】 D

27、统一资源定位器（URL）为 <http://news.abc.edu.cn/index>，表示该服务器的域名为

- A. index
- B. abc.edu.cn
- C. news.abc.edu.cn
- D. news.abc.edu.cn/index

【试题答案】 C

28、用户在发送电子邮件时，不可缺少的是

- A. 收件人地址
- B. 邮件主题
- C. 邮件内容
- D. 附件

【试题答案】 A

29、下列属于网络中间设备的是

- A. 同轴电缆
- B. 交换机
- C. 工作站
- D. 服务器

【试题答案】 B

30、在 Internet 中，下列属于私有 IP 地址的是

- A. 211.2.3.17
- B. 202.168.2.100
- C. 197.17.5.34
- D. 192.168.2.100

【试题答案】 D

二、填空题

1、万维网的英文缩写是_____。

【试题答案】 答案：WWW

2、在 Internet 中，IPv6 的长度是 IPv4 的_____倍。

【试题答案】 答案：4

3、在 Access2010 中，查找以“a”开头的内容，表达式应为：LIKE “_____”。

【试题答案】 答案：a*

4、在 PowerPoint2010 中，可将动画效果复制到其他对象的工具是_____。

【试题答案】 答案：动画刷

5、在 Excel2010 中，当前单元格为 C3，用 R1C1 引用样式表示 E4 单元格地址为_____。

【试题答案】 答案：R[1]C[1]

6、在 Excel2010 的某工作簿中，有 2 个工作表和 1 个图表工作表，保存后将产生_____个文件。


【试题答案】 答案：1

7、在 Word2010 中编辑长文档时，各章设置不同的页眉，可插入_____符后再进一步设置。

【试题答案】 答案：分节符

8、在 Word2010 中，若要选定连续的文档内容，可先将光标定位于起始位置，按住“_____”键同时单击结束位置。

【试题答案】 答案：shift

9、在 Windows7 桌面上，图标左下角有一个小箭头标志，表示其为_____图标。

【试题答案】 答案：快捷方式

10、在 Windows7 资源管理器窗口中，按下_____键可打开帮助窗口。

【试题答案】答案：F1

11、“Cache”的中文含义是_____。

【试题答案】答案：高速缓冲存储器

12、二进制数 10111000 转换成十六进制数为_____。

【试题答案】答案：B8

13、计算机按照规模可划分为：巨型机、大型机、_____、微型机和单片机等。

【试题答案】答案：小型机

14、冯·诺依曼提出了“程序存储”原理以及采用_____作为数字计算机的数制基础。

【试题答案】答案：二进制

15、微型计算机的内存储器容量以字节为单位，则 2048B=_____KB。

【试题答案】答案：2

三、问答题

1、写出 TCP/IP 协议簇中 FTP、TCP 和 ARP 协议所在层的名称。

例如：ATM 属于网络接口层。

(1) FTP 属于_____。

(2) TCP 属于_____。

(3) ARP 属于_____。

【试题答案】

答：(1) FTP 属于应用层

(2) TCP 属于传输层

(3) ARP 属于网络层

2、Access2010 包含多种控件类型，如“切换按钮”和“线条”，写出其他 5 种控件类型名称。

【试题答案】

答：(1) 文本框；

(2) 列表框；

(3) 组合框；

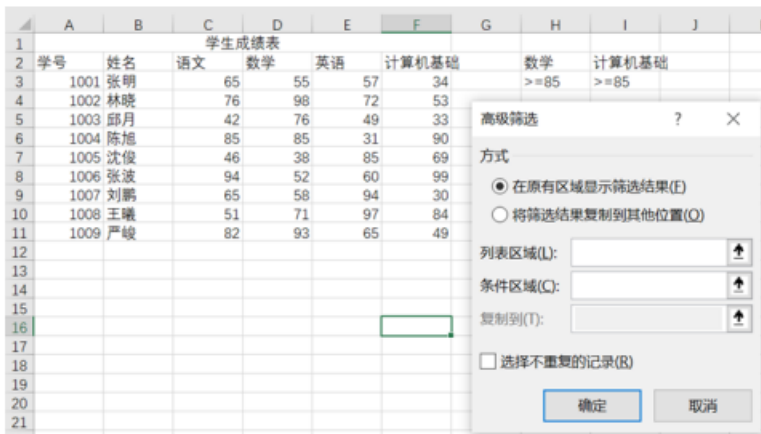
- (4) 标签;
- (5) 复选框。

3、PowerPoint2010“文件”功能区中，“新建”命令提供了多种创建新文档的方式，如“Office.com 模板”，写出其他3种方式名称。

【试题答案】

- 答：(1) 新建空白文档；
 (2) 按样式模板新建；
 (3) 按主题新建。

4、Excel2010“成绩表”如题图所示，要筛选“数学”和“计算机基础”成绩都大于等于85的记录，写出“高级筛选”对话框中列表区域和条件区域应输入的内容。



【试题答案】

- 答：(1) 列表区域：\$A\$2：\$F\$11；
 (2) 条件区域：\$H\$2：\$I\$3。

5、写出 Word2010 中如题图所示功能按钮的名称。



- (1) _____
- (2) _____
- (3) _____
- (4) _____
- (5) _____

【试题答案】

- 答：(1) 复制按钮；
 (2) 文字倾斜按钮；
 (3) 设置上标按钮；
 (4) 字体颜色按钮；
 (5) 段落右对齐按钮。

6、在 Windows7 中打开“开始菜单”的方法有多种，写出其中 2 种。

【试题答案】 答：第一种，按键盘上的 WINDOWS 键；第二种，单击桌面左下角任务栏的开始菜单按钮。

7、计算机辅助工程应用有 CS、CAD、CAM 和 CAE，其中 CS 的中文含义是计算机仿真，写出其他 3 项英文缩写的中文含义。

【试题答案】 答：CAD 是计算机辅助设计，CAM 是计算机辅助制造，CAE 是计算机辅助教学。

四、操作题

1、在 Excel2010 中，已知某公司商品销售数据如题图所示。

	A	B	C	D	E	F
1						利润率 20%
2	商品名称	单价	销量	销售额	利润	销售情况
3	商品A	41	103	4223		
4	商品B	34	270	9180		
5	商品C	238	82	19516		
6	商品D	84	241	20244		
7	商品E	41	81	3321		
8	商品F	191	74	14134		

题图写出完成下列要求所需的公式：

- (1) 在 E3 单元格中计算“商品 A”的利润；
 (2) 在 F3 单元格中判断“商品 A”的销售情况（条件为该商品销量大于 100，则结果为“畅销”，否则结果为“滞销”）。

【试题答案】

- 答：(1) 在 E3 单元格中输入： $=D3*0.2$ ；
 (2) 在 F3 单元格输入： $=if(c3>100, “畅销”, “滞销”)$ 。

2、写出在 Windows7 中完成下列要求所需的操作步骤：

- (1) 利用“个性化”功能，将图片文件“图片 1.JPG”设置为桌面背景；
 (2) 将桌面小工具“日历”添加到桌面。

【试题答案】 答：(1) 依次操作：右击桌面，选择个性化，单击桌面背景，单击浏览找到图片 1.jpg 并打开，选择该图片，再点击保存修改，便完成背景图片的设置。

- (2) 依次操作：右击桌面，选择工具，将日历拖到桌面即可。

00018 《计算机应用基础》真题与答案解析 (2021.10)

一、单项选择题

1、Foxmail 软件的主要功能是

- A. 即时通信
- B. 搜索网上信息
- C. 电子邮件加密
- D. 接收和发送邮件

【试题答案】 D

2、某服务器域名为 www.news.abec.com，其中社会新闻网页 shehuixinwen.html 在该服务器中的路径：/xinwen，则社会新闻所在网页的 URL 为

- A. http: //www.news.abc.com
- B. http: //xi/we/n/shehuixinwen.htm
- C. http: /www.news.abc.com/xinwen/shehuixinwen.html
- D. http: /xinwen/shehuixinwen.html/www.news.abc.com

【试题答案】 C

3、IPv6 中 IP 地址的长度为

- A. 32bit
- B. 48bit
- C. 64bit
- D. 128bit

【试题答案】 D

4、TCP/IP 协议簇中的 FTP 协议位于

- A. 应用层
- B. 传输层
- C. 网络层
- D. 网络接口层

【试题答案】 A

5、在 Access2010 中，删除“学生”数据表的 SQL 语句为

- A. ADDTABLE 学生
- B. ALTERTABLE 学生
- C. CREATETABLE 学生

D. DROPTABLE 学生

【试题答案】 D

6、下列有关 PowerPoint2010 的叙述中，错误的是

- A. 用户可以在幻灯片放映的过程中打开其他程序
- B. 在“录制”对话框中可以直接输入放映所需要的时间
- C. 通过调整“持续时间”，可以改变动画出现的快慢
- D. 选中已设置动画效果的对象，单击“动画刷”按钮，可以多次复制动画效果

【试题答案】 D

7、在 PowerPoint2010 中，将当前演示文稿另存为模板，其扩展名为

- A. potx
- B. pptx
- C. xps
- D. pdf

【试题答案】 A

8、在 Excel2010 中，如题图所示，在 A6 单元格输入公式：=MAX (A1: A5)，其结果是

	A
1	数据
2	1
3	4
4	-4
5	0
6	

- A. -4
- B. 1
- C. 4
- D. #VALUE!

【试题答案】 C

9、在 Excel2010 中，下列不能计算 A1 到 B3 单元格区域之和的公式是

- A. =SUM (A1: B3)
- B. =SUM (A1: A3, B1: B3)
- C. =SUM (A1: A3+B1: B3)
- D. =SUM (A1: A3) +SUM (B1: B3)

【试题答案】 C

10、在 Excel2010 中，根据销售额和利润率计算利润时，在 B4 单元格输入公式：=A4*B1，再将其复制到 B5：B11，但结果不正确，如题 21 图所示，若要得到正确的结果，则 B4 单元格中的公式应修改为

	A	B	C
1	利润率	0.25	
2			
3	销售额	利润	
4	646	161.5	
5	800	0	
6	574	#VALUE!	
7	581	93831.5	
8	581	0	
9	841	#VALUE!	
10	555	52076482.5	
11	846	0	
12			

- A. =A\$4*B1
- B. =A\$4*\$B1
- C. =\$A4*\$B1
- D. =A4*\$B\$1

【试题答案】 D

11、在 Excel2010 高级筛选中，要查找计算机学院的林老师，条件区域中输入正确的是

- A.

所在学院	员工姓名
计算机学院	林
- B.

所在学院	员工姓名
计算机学院	林*
- C.

所在学院	员工姓名
计算机学院	
	林
- D.

所在学院	员工姓名
计算机学院	
	林*

【试题答案】 B

12、在 Excel2010 中，若要在单元格中完整显示“0201032151112”，则需设置单元格格式为

- A. 文本

- B. 常规
- C. 数值
- D. 会计专用

【试题答案】A

13、在 Excel2010 中，可设置打印表格纸张大小的功能区是

- A. 开始
- B. 插入
- C. 页面布局
- D. 视图

【试题答案】C

14、下列 Word2010 的“分隔符”中，属于“分页符”的命令是

- A. 连续
- B. 分栏符
- C. 下一页
- D. 偶数页

【试题答案】B

15、在 Word2010 “插入”功能区的“表格”下拉菜单中，不包括的功能是

- A. 删除表格
- B. 插入表格
- C. 快速表格
- D. 绘制表格

【试题答案】A

16、下列有关 Word2010 样式的叙述中，错误的是

- A. 样式包括文本和段落格式
- B. 可以重新设置默认的段落样式
- C. 样式命名后可以删除，但不可以修改
- D. 没有为段落设置样式，自动使用默认的样式

【试题答案】C

17、在 Word2010 中，给当前文档添加水印，可在“页面布局”功能区中使用

- A. “主题”组
- B. “稿纸”组

C. “页面设置”组

D. “页面背景”组

【试题答案】D

18、在 Word2010 中，在页面的最下面对文中文字进行解释的内容称为

A. 尾注

B. 脚注

C. 题注

D. 批注

【试题答案】B

19、在 Word2010 中，只将文档关闭，而不关闭 Word 应用程序的命令是

A. 关闭

B. 退出

C. 保存

D. 另存为

【试题答案】B

20、Windows7 默认状态下，在资源管理器中选中要删除的硬盘文件后，能实现永久删除的操作是

A. 按 Delete 键

B. 按“Shift+Delete”键

C. 鼠标拖拽文件到“回收站”

D. 单击鼠标右键，在弹出的快捷菜单中选中“删除”命令

【试题答案】D

21、下列不能用于 Windows7 文件名的字符是

A. @

B. -

C. #

D. *

【试题答案】D

22、在 Windows7 中，任务栏的主要作用是

A. 快速查找程序、文件和文件夹

B. 用于在多用户的系统中更改用户

C. 显示当前运行的所有任务以及程序的快速启动

D. 快速打开计算机、控制面板等项目的文件夹或窗口

【试题答案】 C

23、可以打开 Windows7 帮助和支持窗口的是

A. F1 键

B. ESC 键

C. Windows 键

D. PrintScreen 键

【试题答案】 A

24、下列有关十进制与二进制转换的叙述中，正确的是

A. 十进制转换成二进制时，小数部分乘 2 取整，自上而下

B. 十进制转换成二进制时，整数部分乘 2 取整，自下而上

C. 二进制转换成十进制时，小数部分除 2 取余，自上而下

D. 二进制转换成十进制时，整数部分除 2 取余，自下而上

【试题答案】 A

25、在微型计算机中，描述 CPU 运算精度的参数是

A. 主频

B. 字长

C. 容量

D. 速率

【试题答案】 B

26、计算机可以直接识别和执行的是

A. C 语言程序

B. 汇编语言程序

C. 机器语言程序

D. Java 语言程序

【试题答案】 C

27、下列有关 USB 接口的叙述中，错误的是

A. USB 接口标准统一

B. USB 接口属于并行接口

C. USB 接口可连接多个设备

D. USB 接口支持设备热插拔

【试题答案】 B

28、微型计算机中，MIPS 的中文含义是

- A. 每秒处理十万条指令数
- B. 每秒处理百万条指令数
- C. 每秒处理千万条指令数
- D. 每秒处理亿万条指令数

【试题答案】 B

29、计算机中存储容量 1TB 等于

- A. 2^{20} B
- B. 2^{30} B
- C. 2^{40} B
- D. 2^{50} B

【试题答案】 C

30、微型计算机中，运算器的基本功能包括

- A. 控制程序执行
- B. 输出处理结果
- C. 时间控制
- D. 完成数据加工处理

【试题答案】 D

二、填空题

1、通常在家庭或办公环境中可充当 AP 设备的是无线_____。

【试题答案】 【答案】 路由器

2、必须通过中心节点才能实现通信的计算机网络拓扑结构是_____结构。

【试题答案】 【答案】 星型或者星形

3、数据库的体系结构分为：_____、模式和内模式。

【试题答案】 【答案】 外模式或者子模式

4、PowerPoint2010 有多种视图，一般用于显示多张幻灯片的视图是_____。

【试题答案】 【答案】 幻灯片浏览视图或者幻灯片浏览

5、在 Excel2010 中，若 C2 单元格数据大于等于 60，则 D2 单元格显示：及格，否则显示：不及格。应在 D2 单元格输入公式：_____。

【试题答案】 【答案】 =IF (C2>=60, “及格”, “不及格”) (大小写字母不限)

6、在 Excel2010 的“设置单元格格式”对话框中有 6 个选项卡，分别是：数字、对齐、字体、_____、填充和保护。

【试题答案】 【答案】 边框

7、Word2010 文档导航方式有 4 种：_____、文档页面导航、关键字（词）导航和特定对象导航。

【试题答案】 【答案】 文档标题导航或者标题导航

8、在 Word2010 中，若要添加页码，可使用“插入”功能区的_____组。

【试题答案】 【答案】 页眉和页脚

9、在 Windows7 中，磁盘管理工具可有效地管理和使用磁盘，其主要操作包括：设置磁盘属性、_____、删除分区、更改盘符和优化磁盘。

【试题答案】 【答案】 创建分区

10、在 Windows7 桌面上添加“计算机”图标，应先在桌面_____处单击鼠标右键。

【试题答案】 【答案】 空白

11、将微型计算机的主要硬件设备有机地联系在一起的集成电路板，一般称为_____。

【试题答案】 【答案】 主板或者系统板或者母板或者 Mainboard 或者 Systeemboard 或者 Motherboard (大小写字母不限)

12、已知大写字母 C 的 ASCII 码值十进制是 67，则小写字母 c 的 ASCII 码值用十进制表示为_____。

【试题答案】 【答案】 99

13、主要的汉字输入码可以分为：数字编码、字音编码和_____。

【试题答案】 【答案】 字形编码或者字形

14、按照计算机的构成器件可以将计算机划分为：_____、光子计算机、量子计算机和生物计算机等。

【试题答案】 【答案】 电子计算机

三、问答题

1、在网络环境下计算机的安全使用有多种措施，写出其中 2 种。

【试题答案】 (1) 计算机病毒的防范或者杀毒软件

(2) 使用防火墙工具或者防火墙软件

(3) 养成良好的计算机及互联网操作使用习惯或者及时安装系统补丁或者及时进行数据备份

(4) 学习并遵守计算机互联网安全的相关法律法规

2、在 E-R 图中，实体与实体之间的联系有 3 种，写出其名称。

【试题答案】 (1) 1 对 1 或者 1: 1

(2) 1 对多或者多对 1 或者 1: N 或者 N: 1

(3) 多对多或者 M: N

3、PowerPoint2010 的主界面包含多个功能区，如插入等，写出其他 4 个名称。

【试题答案】 文件、开始、设计、切换、动画、幻灯片放映、审阅、视图

4、在 Excel2010 中，有如题图所示数据，写出利用 VLOOKUP 函数在 F2 单元格中显示待查学号物理成绩的公式。

	A	B	C	D	E	F
1	学号	数学	物理		待查学号	物理成绩
2	200601	81	72		200603	
3	200602	87	73			
4	200603	95	98			

【试题答案】 答: =VLOOKUP (E2, \$A\$1: \$C\$4, 3, 0)

5、在 Word2010 主功能区中添加一个新选项卡，写出具体的操作步骤。

【试题答案】 答: 选中“文件”功能区→“选项”→“自定义功能区”→“添加新选项卡”→“确定”。

6、Windows7 窗口关闭的方法有多种，写出其中 3 种。

【试题答案】 答: (1) 单击窗口标题栏右侧的“关闭”按钮。

(2) 在窗口标题栏上单击鼠标右键，在弹出的快捷菜单中单击“关闭”命令。

(3) 单击窗口标题栏左上角的控制菜单图标（程序图标），在弹出的快捷菜单中单击“关闭”命令。

(4) 按 Alt+F4 键。

(5) 鼠标右键单击任务栏中需要关闭的窗口，在弹出的快捷菜单中单击“关闭”命令。

(6) 双击窗口标题栏左上角的控制菜单图标（程序图标）。

7、将二进制数 101001111 转换成八进制、十进制和十六进制数。

(1) 八进制: _____

(2) 十进制: _____

(3) 十六进制: _____

【试题答案】答: (1) 4457 或者 44570 或者 (4457)。

(2) 2351

(3) 92F 或者 92FH 或者 (92F)₁₆

四、操作题

1、题图所示为“Internet 选项”对话框。



写出完成下列要求所需的操作步骤:

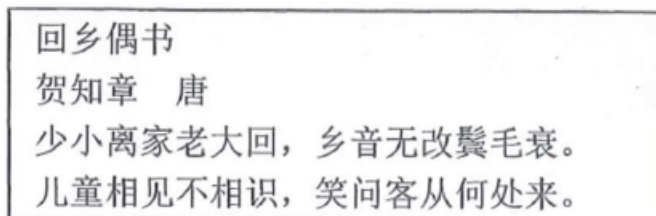
- (1) 删除浏览历史记录中的 Cookie;
- (2) 设置默认主页为 www.abc.edu.cn。

【试题答案】(1) 选择“常规”选项卡,“浏览历史记录”下,单击“删除”按钮。

“删除浏览的历史记录”对话框中,选择“Cookie”复选框,按“删除”按钮;

(2) 选择“常规”选项卡,在“主页”下的文本框输入: www.abc.edu.cn,按“确定”按钮。

2、在 Word2010 中有内容如题图所示的诗词:



写出完成下列要求所需的操作步骤:

- (1) 将诗词名称设置为居中,黑体,四号;
- (2) 将诗词内容设置为分两栏并加分隔线。

【试题答案】(1) 方法 1: 选中“回乡偶书”→“开始”→“段落”组对话框启动器,在段落对话框中对齐方式设置居中→选择“字体”组对话框启动器,在字体对话框中,设置黑体,四号。

方法 2：选中“回乡偶书”→“开始”→“段落”组“居中”→“开始”→“字体”组字体、字号，设置黑体，四号。

(2) 方法 1：选中诗词内容→“页面布局”→“页面设置”组、“分栏”下拉菜单中“两栏”，在“更多分栏”对话框，勾选分隔线复选框。

方法 2：选中诗词内容→“页面布局”→“页面设置”组中“分栏”下拉菜单中“更多分栏”，在“更多分栏”对话框中选择“栏数”：2，勾选分隔线复选框。